

Шифр

6	-	0	6	8	1	9	2											
---	---	---	---	---	---	---	---	--	--	--	--	--	--	--	--	--	--	--

Всероссийская олимпиада школьников по географии
школьный этап 2022-2023 учебный год
6 класс

ЛИСТ ОТВЕТОВ

Участник олимпиады	
Фамилия	Курикова
Имя	Ирина
Отчество	Владимовна

№ задания	Баллы			Тесты
	1	2	3	
Количество баллов	11,5	7	9,5	5
Подпись члена жюри				
Сумма баллов и подпись председателя	38 Л			



Шифр

6	-	0	6	8	1	9	2												
---	---	---	---	---	---	---	---	--	--	--	--	--	--	--	--	--	--	--	--

Всероссийская олимпиада школьников по географии
школьный этап 2022-2023 учебный год

6 класс

Бланк ответов учащегося для заданий тестового тура

№ вопроса	Правильный ответ (элементы ответа)
1.	Г 1
2.	Б 1
3.	А 0
4.	А 0
5.	Б, В, А 1
6.	Г 0
7.	А, Б, Г 1
8.	Г 0
9.	А, Г 1
10.	А 0

Шифр

6	0	0	6	8	1	9	2											
---	---	---	---	---	---	---	---	--	--	--	--	--	--	--	--	--	--	--

Теоретический тур

Задание № 1 «Кругосветное путешествие»

№	Вопрос	Ответ
1.	Назовите даты первого кругосветного путешествия. 1	20 сентября 1519 г. - 6 сентября 1522 г.
2.	Кто был организатором этого уникального плавания? 1	Ф. Магелан
3.	Какому океану он дал название и почему именно такое? 1	Тихий, потому что они были по океану и кварту ^{после} и тогда он увидел своих ^{морских} в тиши
4.	Выберите объекты, которые не могли встретиться на пути у путешественников:	
5.	Какие имена носили корабли этой морской экспедиции? 2,5	"Виктория", "Сан-Антонио", "Тринидад", "Каменьяна"
6.	Какой корабль вернулся на родину? 1	"Виктория"
7.	Кто в результате этого плавания получил титул дворянина и герб?	Христофор Христофор Колумб
8.	Почему 18 вернувшихся участников экспедиции церковью были преданы анафеме и вынуждены были замаливать грехи? Какую знаменитую линию пересекла экспедиция? 1	линия переметы дан
9.	Когда и кем было	

Шифр

6	-	а	б	в	г	д	е	ж	з										
---	---	---	---	---	---	---	---	---	---	--	--	--	--	--	--	--	--	--	--

	совершено первое русское кругосветное путешествие? Назовите имена этих кораблей?	Кру Зенитерн 1
10.	Кто и когда совершил кругосветное путешествие за 108 минут? На каком корабле это было совершено? Гражданином какой страны?	Гагарин, ^{апрель (1961)} 12 сентября, Восток, СССР 2
11.	Кто автор приключенческого романа?	Жюль Верн 1
12.	Назовите город (начало и окончание путешествия) и страну, в которой он расположен.	Испания
13.	Сколько времени понадобилось героям для того чтобы вернуться в город, откуда они начали свой путь.	4 года

Шифр

6	-	0	6	8	1	9	2										
---	---	---	---	---	---	---	---	--	--	--	--	--	--	--	--	--	--

Задание № 2 «Логическая сетка»

Вода	Гидросфера	Круговорот воды
Воздух	Атмосфера	Ветер
животные, растения	Биосфера	Круговорот веществ
Земные породы, полезные ископаемые	Литосфера	Круговорот горных пород

Вопрос	Ответ
1. Выявленный признак объединяющий понятия в 1 строчке	Гидросфера 1
2. Выявленный признак во 2 строчке	Атмосфера - это воздух 1
3. Выявленный общий признак в 3 столбце	Круговороты 1
4. Выявленный признак во 2 столбце	сферы 1
5. Выявленный признак в 1 столбце	Вещества, живые организмы

Шифр

6	-	0	6	8	1	9	2											
---	---	---	---	---	---	---	---	--	--	--	--	--	--	--	--	--	--	--

6. Недостающее понятие в 3 строчке	животные, растения 1
7. Недостающие понятия в 4 строчке	земные породы, млекопитающие 2

Задание № 3 «Белая ворона»

№	Название географических объектов	Общий признак объединения	Лишний объект и причина
1.	Тихий, Индийский, Атлантический, Северный Ледовитый, Антарктида	Океаны 1	Антарктида это материк
2.	Везувий, Костюшко, Килиманджаро, Этна, Кракатау	Вулканы 0,5	
3.	Каспийское, Азовское, Охотское, Карское, Чукотское	Море 1	Каспийское море озеро
4.	Амазонка, Волга, Амур, Нил, Миссисипи, Байкал	Реки 1	Байкал озеро
5.	Сихотэ-Алинь, Урал, Кордильеры, Таймыр, Анды	горы 1	Сихотэ-Алинь не горы
6.	Алтай, Сахалин, Гренландия, Мадагаскар, Куба	острова 1	Алтай - горы
7.	Хабаровск, Амурск, Биробиджан, Николаевск-на-Амуре, Комсомольск-на-Амуре	города на Амуре 1	Биробиджан не на Амуре
8.	Китай, Япония, Россия, Монголия, Нью-Дели, Бразилия	Страны 1	Нью-Дели город
9.	Каир, Мехико, Канберра, Варшава, Ярославль	Столицы 1	Ярославль - город в России
10.	Африка, Аральское,	1	

Шифр

6	-	0	6	8	1	9	2										
---	---	---	---	---	---	---	---	--	--	--	--	--	--	--	--	--	--

Виктория, Ладожское	Чад,		
------------------------	------	--	--

Адреса материк

ВСЕРОССИЙСКАЯ ОЛИМПИАДА ШКОЛЬНИКОВ ПО ГЕОГРАФИИ
(школьный этап)

ТЕОРЕТИЧЕСКИЙ ТУР

6 класс

Уважаемый участник олимпиады!

Вам предстоит выполнить теоретические задания. **Время выполнения заданий теоретического тура 45 минут.**

Выполнение теоретических (письменных) заданий целесообразно организовать следующим образом:

- не спеша, внимательно прочитайте задание и определите, наиболее верный и полный ответ;
- отвечая на теоретические вопросы и выполняя практические задания, обдумайте и сформулируйте конкретный ответ только на поставленный вопрос;
- если Вы отвечаете на задание, связанное с заполнением таблицы или схемы, не старайтесь детализировать информацию, вписывайте только те сведения или данные, которые указаны в вопросе;
- особое внимание обратите на задания, в выполнении которых требуется выразить Ваше мнение с учетом анализа ситуации или поставленной проблемы. Внимательно и вдумчиво определите смысл вопроса и логику ответа (последовательность и точность изложения). Отвечая на вопрос, предлагайте свой вариант решения проблемы, при этом ответ должен быть кратким, но содержать необходимую информацию;
- после выполнения всех предложенных заданий еще раз удостоверьтесь в правильности выбранных Вами ответов и решений.

Предупреждаем Вас, что:

- при оценке тестовых заданий, где необходимо определить один правильный ответ, 0 баллов выставляется за неверный ответ и в случае, если участником отмечены несколько ответов (в том числе правильный), или все ответы;
- при оценке тестовых заданий, где необходимо определить все правильные ответы, 0 баллов выставляется, если участником отмечены неверные ответы, большее количество ответов, чем предусмотрено в задании (в том числе правильные ответы) или все ответы.

Задание теоретического тура считается выполненным, если Вы вовремя сдаете его членам жюри.

Максимальная оценка –35 баллов

Всероссийская олимпиада школьников по географии
школьный этап 2022-2023 учебный год
6 класс

Теоретический тур

Задание № 1. «Кругосветное путешествие»

XV-XVI вв. называют эпохой великих географических открытий. Самое выдающееся путешествие – это первое кругосветное плавание.

1. Назовите даты первого кругосветного путешествия.
2. Кто был организатором этого уникального плавания?
3. Какому океану он дал название и почему именно такое?
4. Вспомните маршрут плавания и выберите объекты, которые не могли встретиться на пути у путешественников: *Южная Америка, Малайский архипелаг, Красное море, Австралия Аппенинский полуостров, Тихий океан, остров Сахалин, остров Великобритания, острова Огненная Земля, Аравийский полуостров, Филиппинские острова?*
5. Какие имена носили корабли этой морской экспедиции?
6. Какой корабль вернулся на родину?
7. Кто в результате этого плавания получил титул дворянина и герб с изображением земного шара, обвитого лентой с надписью: «Ты первым обогнул меня»!
8. Почему 18 вернувшихся участников экспедиции церковью были преданы анафеме и вынуждены были замаливать грехи? Какую знаменитую линию пересекла экспедиция?
9. Когда и кем было совершено первое русское кругосветное путешествие? Назовите имена этих кораблей?
10. Кто и когда совершил кругосветное путешествие за 108 минут? На каком корабле это было совершено? Гражданином какой страны?
11. В 1872 знаменитый французский писатель написал приключенческий роман о кругосветном путешествии Филеаса Фогга и Жана Паспарту. Наверняка Вы смотрели мультфильм, снятый по этому роману. Кто автор этого произведения?
12. Назовите город (начало и окончание путешествия) и страну, в которой он расположен. Сколько времени понадобилось героям для того чтобы вернуться в город, откуда они начали свой путь.
13. Сколько времени понадобилось героям для того чтобы вернуться в город, откуда они начали свой путь.



Задание № 2. «Логическая сетка»

В предложенной таблице, найдите логику в первых двух строчках и запишите недостающие понятия в третьей и четвертой строчке. Ответ поясните.

<p>Вода</p> 	<p>Гидросфера</p> 	<p>Круговорот воды</p> 
<p>Воздух</p> 	<p>Атмосфера</p> 	<p>Ветер</p> 
<p><i>Растения животные</i></p>	<p>Биосфера</p> 	<p>Круговорот веществ</p> 
<p><i>горные</i></p>	<p><i>Литосфера</i></p>	<p>Круговорот горных пород</p> 

Задание № 3. «Белая ворона»

В каждом из предложенных в перечне географических объектов есть по одному объекту, который является неверным. Определите, что объединяет объекты в перечне и почему один объект «белая ворона».

- 1) Тихий, Индийский, Атлантический, Северный Ледовитый, Антарктида
- 2) Везувий, Костюшко, Килиманджаро, Этна, Кракатау
- 3) Каспийское, Азовское, Охотское, Карское, Чукотское
- 4) Амазонка, Волга, Амур, Нил, Миссисипи, Байкал
- 5) Сихотэ-Алинь, Урал, Кордильеры, Таймыр, Анды
- 6) Алтай, Сахалин, Гренландия, Мадагаскар, Куба
- 7) Хабаровск, Амурск, Биробиджан, Николаевск-на-Амуре, Комсомольск-на-Амуре
- 8) Китай, Япония, Россия, Монголия, Нью-Дели, Бразилия
- 9) Каир, Мехико, Канберра, Варшава, Ярославль
- 10) Африка, Аральское, Виктория, Чад, Ладожское

ВСЕРОССИЙСКАЯ ОЛИМПИАДА ШКОЛЬНИКОВ ПО ГЕОГРАФИИ
(школьный этап)

ТЕСТОВЫЙ ТУР
6 класс

Уважаемый участник олимпиады!

Вам предстоит выполнить тестовые задания. **Время выполнения заданий теоретического тура - 30 минут.**

Выполнение тестовых заданий целесообразно организовать следующим образом:

- не спеша, внимательно прочитайте тестовое задание;
- определите, какой из предложенных вариантов ответа наиболее верный и полный;
- напишите букву, соответствующую выбранному Вами ответу;
- продолжайте, таким образом, работу до завершения выполнения тестовых заданий;
- после выполнения всех предложенных заданий еще раз удостоверьтесь в правильности ваших ответов;
- если потребуется корректировка выбранного Вами варианта ответа, то неправильный вариант ответа зачеркните крестиком, и рядом напишите новый.

Предупреждаем Вас, что:

- при оценке тестовых заданий, где необходимо определить один правильный ответ, 0 баллов выставляется за неверный ответ и в случае, если участником отмечены несколько ответов (в том числе правильный), или все ответы;
 - при оценке тестовых заданий, где необходимо определить все правильные ответы, 0 баллов выставляется, если участником отмечены неверные ответы, большее количество ответов, чем предусмотрено в задании (в том числе правильные ответы) или все ответы.
- Задание тестового тура считается выполненным, если Вы вовремя сдаете его членам жюри.

Максимальная оценка – 11 баллов

Всероссийская олимпиада школьников по географии
школьный этап 2022-2023 учебный год
6 класс

Тестовый тур

1. Выберите ответ на вопрос: Что такое «Фитопланктон»?

- а) организмы, обитающие на поверхности океана;
- б) водоросли прибрежной зоны морей и океанов;
- в) донные животные;
- г) микроскопические растения, обитающие в толще воды передвигающиеся благодаря течениям.

2. Выберите правильный ответ из предложенных вариантов. Усиление концентрации углекислого газа и удержание атмосферой тепла – это явление называется:

- а) мираж
- б) парниковый эффект
- в) озоновый экран.

3. Выберите правильный ответ. Типичные представители животного мира саванн:

- а) тушканчик, фенёк, скорпион;
- б) зебра, слон, бегемот;
- в) леопард, анаконда, орангутанг;
- г) медведь, лисица, заяц.

4. Выберите правильный ответ. Последовательность смены поясов освещённости при движении от экватора к полюсу:

- а) умеренный, тропический, полярный;
- б) тропический, умеренный, полярный;
- в) полярный, умеренный, тропический.

5. Выберите правильные ответы. Осевое вращение Земли является причиной:

- а) смены времен года;
- б) смены дня и ночи;
- в) сплюснутости Земного шара у полюсов;
- г) годовой ритмичности природных процессов;
- д) суточной ритмичности природных процессов.

6. Выберите правильные ответы. Гейзеры находятся на территории:

- а) Евразии;
- б) Северной Америки;
- в) Новой Зеландии;
- г) Южной Америки.

7. Выберите правильные ответы. Метаморфической горной породой является:

а) гнейс; б) мрамор; в) песок; г) базальт.

8. Выберите правильный ответ. Обитателями тундры являются следующие представители фауны:

- а) медведь, бурундук, лось, россомаха;
- б) северный олень, белая куропатка, песец, лемминг;
- в) кабан, волк, лиса, белка;
- г) сайгак, дрофа, серая куропатка, желтобрюхий полоз.

9. Выберите верное утверждение:

1.

- а) Озеро - это природный водоём в углублении поверхности суши
- б) Вода в озёрах бывает только пресная
- в) Озера бывают только одной формы
- г) В горах не бывает озёр

2.

- а) Каспийское море образовалось в тектоническом разломе
- б) Онежское озеро вулканического происхождения
- в) Самое большое по площади в мире озеро – Виктория
- г) Самое глубокое в мире озеро Байкал

10. Выберите правильный ответ. Типичными представителями растительного мира тропических пустынь:

- а) эвкалипт, баобаб, акация;
- б) береза, ель, ольха;
- в) саксаул, верблюжья колючка, астрагал; *Стебель*
- г) лианы, бамбук, папоротники.

Шифр

6	-	0	0	6	7	3	2	3										
---	---	---	---	---	---	---	---	---	--	--	--	--	--	--	--	--	--	--

Всероссийская олимпиада школьников по географии
школьный этап 2022-2023 учебный год
6 класс

ЛИСТ ОТВЕТОВ

Участник олимпиады	
Фамилия	Корчик
Имя	Емий
Отчество	Алексеевич

Баллы				
№ задания	1	2	3	Тесты
Количество баллов	6	5	9	7
Подпись члена жюри				
Сумма баллов и подпись председателя	27 <i>Л</i>			

Шифр

6	-	0	0	6	4	3	2	3										
---	---	---	---	---	---	---	---	---	--	--	--	--	--	--	--	--	--	--

**Всероссийская олимпиада школьников по географии
школьный этап 2022-2023 учебный год**

6 класс

Бланк ответов учащегося для заданий тестового тура

№ вопроса	Правильный ответ (элементы ответа)
1.	
2.	
3.	
4.	
5.	
6.	
7.	
8.	
9.	
10.	

Шифр

6	-	5		0	6	7	3	2	3									
---	---	---	--	---	---	---	---	---	---	--	--	--	--	--	--	--	--	--

Теоретический тур

Задание № 1 «Кругосветное путешествие»

№	Вопрос	Ответ
1.	Назовите даты первого кругосветного путешествия. 1	1521 1512 год
2.	Кто был организатором этого уникального плавания? 1	Магеллан
3.	Какому океану он дал название и почему именно такое?	Тихий Магеллан так его назвал в шутку.
4.	Выберите объекты, которые не могли встретиться на пути у путешественников:	Другие корабли.
5.	Какие имена носили корабли этой морской экспедиции?	
6.	Какой корабль вернулся на родину?	
7.	Кто в результате этого плавания получил титул дворянина и герб? 1	Хуан Эльканано
8.	Почему 18 вернувшихся участников экспедиции церковью были преданы анафеме и вынуждены были замаливать грехи? Какую знаменитую линию пересекла экспедиция?	Молк порт
9.	Когда и кем было	

Шифр

6	-	5	0	6	4	3	2	3										
---	---	---	---	---	---	---	---	---	--	--	--	--	--	--	--	--	--	--

	совершено первое русское кругосветное путешествие? Назовите имена этих кораблей?	1	Крузенштерман. Надежда и Нева
10.	Кто и когда совершил кругосветное путешествие за 108 минут? На каком корабле это было совершено? Гражданином какой страны?	4,5	Юрий Гагарин гражданином Советского союза на корабле "Восток"
11.	Кто автор приключенческого романа?	0,5 1	Жюль Верн.
12.	Назовите город (начало и окончание путешествия) и страну, в которой он расположен.		(Самарканд, Англия)
13.	Сколько времени понадобилось героям для того чтобы вернуться в город, откуда они начали свой путь.		88 минут

Шифр

6	-	5	0	6	4	3	2	3										
---	---	---	---	---	---	---	---	---	--	--	--	--	--	--	--	--	--	--

Задание № 2 «Логическая сетка»

Вода	Гидросфера	Круговорот воды
Воздух	Атмосфера	Ветер
<i>Тысяча существа</i>	Биосфера	Круговорот веществ
<i>Тектонические плиты</i>	<i>Литосфера</i>	Круговорот горных пород

Вопрос	Ответ
1. Выявленный признак объединяющий понятия в 1 строчке <i>1</i>	<i>Везде присутствует слово вода.</i>
2. Выявленный признак во 2 строчке <i>1</i>	<i>Воздух.</i>
3. Выявленный общий признак в 3 столбце <i>1</i>	<i>Движение</i>
4. Выявленный признак во 2 столбце <i>1</i>	<i>Сфера - оболочка.</i>
5. Выявленный признак в 1 столбце <i>1</i>	<i>Различная плотн^{сть} из ко- торо^{ых} состоит оболочка</i>

Шифр

6	-	5		064323											
---	---	---	--	--------	--	--	--	--	--	--	--	--	--	--	--

6. Недостающее понятие в 3 строчке	
7. Недостающие понятия в 4 строчке	

Задание № 3 «Белая ворона»

№	Название географических объектов	Общий признак объединения	Лишний объект и причина	
1.	Тихий, Индийский, Атлантический, Северный Ледовитый, Антарктида	Океаны	Антарктида - это континент.	1
2.	Везувий, Костюшко, Килиманджаро, Этна, Кракатау	Вулканы	Костюшко - гора.	1
3.	Каспийское, Азовское, Охотское, Карское, Чукотское	2 моря	Каспийское море-озеро.	1
4.	Амазонка, Волга, Амур, Нил, Миссисипи, Байкал	Реки	Байкал - озеро.	1
5.	Сихотэ-Алинь, Урал, Кордильеры, Таймыр, Анды	Горы	Таймыр - равнина.	1
6.	Алтай, Сахалин, Гренландия, Мадагаскар, Куба	Острова	Алтай - ^{горный} регион	1
7.	Хабаровск, Амурск, Биробиджан, Николаевск-на-Амуре, Комсомольск-на-Амуре	Города	Амурск - не город.	0,5
8.	Китай, Япония, Россия, Монголия, Нью-Дели, Бразилия	Страны	Нью Дели - столица.	1
9.	Каир, Мехико, Канберра, Варшава, Ярославль	Столицы	Ярославль - город.	1
10.	Африка, Аральское,	водоохранительница	Африка - континент.	0,5

Шифр

6	-	8		0	6	4	3	2	3									
---	---	---	--	---	---	---	---	---	---	--	--	--	--	--	--	--	--	--

	Виктория, Ладожское	Чад,		
--	------------------------	------	--	--

ВСЕРОССИЙСКАЯ ОЛИМПИАДА ШКОЛЬНИКОВ ПО ГЕОГРАФИИ
(школьный этап)

ТЕОРЕТИЧЕСКИЙ ТУР

6 класс

Уважаемый участник олимпиады!

Вам предстоит выполнить теоретические задания. **Время выполнения заданий теоретического тура 45 минут.**

Выполнение теоретических (письменных) заданий целесообразно организовать следующим образом:

- не спеша, внимательно прочитайте задание и определите, наиболее верный и полный ответ;
- отвечая на теоретические вопросы и выполняя практические задания, обдумайте и сформулируйте конкретный ответ только на поставленный вопрос;
- если Вы отвечаете на задание, связанное с заполнением таблицы или схемы, не старайтесь детализировать информацию, вписывайте только те сведения или данные, которые указаны в вопросе;
- особое внимание обратите на задания, в выполнении которых требуется выразить Ваше мнение с учетом анализа ситуации или поставленной проблемы. Внимательно и вдумчиво определите смысл вопроса и логику ответа (последовательность и точность изложения). Отвечая на вопрос, предлагайте свой вариант решения проблемы, при этом ответ должен быть кратким, но содержать необходимую информацию;
- после выполнения всех предложенных заданий еще раз удостоверьтесь в правильности выбранных Вами ответов и решений.

Предупреждаем Вас, что:

- при оценке тестовых заданий, где необходимо определить один правильный ответ, 0 баллов выставляется за неверный ответ и в случае, если участником отмечены несколько ответов (в том числе правильный), или все ответы;
- при оценке тестовых заданий, где необходимо определить все правильные ответы, 0 баллов выставляется, если участником отмечены неверные ответы, большее количество ответов, чем предусмотрено в задании (в том числе правильные ответы) или все ответы.

Задание теоретического тура считается выполненным, если Вы вовремя сдаете его членам жюри.

Максимальная оценка – 35 баллов

Всероссийская олимпиада школьников по географии
школьный этап 2022-2023 учебный год
6 класс

Теоретический тур

Задание № 1. «Кругосветное путешествие»



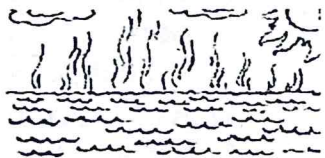

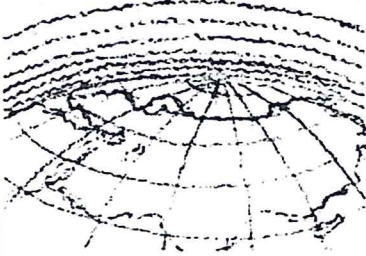



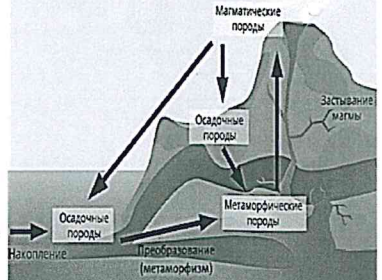
XV-XVI вв. называют эпохой великих географических открытий. Самое выдающееся путешествие – это первое кругосветное плавание.

1. Назовите даты первого кругосветного путешествия. *1521 - 1522*
2. Кто был организатором этого уникального плавания? *Магеллан*
3. Какому океану он дал название и почему именно такое? *Тихий*
4. Вспомните маршрут плавания и выберите объекты, которые не могли встретиться на пути у путешественников: *Южная Америка, Малайский архипелаг, Красное море, Австралия, Аппенинский полуостров, Тихий океан, остров Сахалин, остров Великобритания, острова Огненная Земля, Аравийский полуостров, Филиппинские острова?*
5. Какие имена носили корабли этой морской экспедиции?
6. Какой корабль вернулся на родину?
7. Кто в результате этого плавания получил титул дворянина и герб с изображением земного шара, обвитого лентой с надписью: «Ты первым обогнул меня»? *Капитан Ф. Вердугинского корабля.*
8. Почему 18 вернувшихся участников экспедиции церковью были преданы анафеме и вынуждены были замаливать грехи? Какую знаменитую линию пересекла экспедиция? *Мыс Форм.*
9. Когда и кем было совершено первое русское кругосветное путешествие? Назовите имена этих кораблей? *Крузенштерном. Корабли Гадарго и Нева.*
10. Кто и когда совершил кругосветное путешествие за 108 минут? На каком корабле это было совершено? Гражданином какой страны?
11. В 1872 знаменитый французский писатель написал приключенческий роман о кругосветном путешествии Филеаса Фогга и Жана Паспарту. Наверняка Вы смотрели мультфильм, снятый по этому роману. Кто автор этого произведения?
12. Назовите город (начало и окончание путешествия) и страну, в которой он расположен. Сколько времени понадобилось героям для того чтобы вернуться в город, откуда они начали свой путь.
13. Сколько времени понадобилось героям для того чтобы вернуться в город, откуда они начали свой путь.



Задание № 2. «Логическая сетка»

В предложенной таблице, найдите логику в первых двух строчках и запишите недостающие понятия в третьей и четвертой строчке. Ответ поясните.

<p>Вода</p> 	<p>Гидросфера</p> 	<p>Круговорот воды</p> 
<p>Воздух</p> 	<p>Атмосфера</p> 	<p>Ветер</p> 
<p><i>Живые существа</i></p>	<p>Биосфера</p> 	<p>Круговорот веществ</p> 
<p><i>Тектонические и плиты.</i></p>	<p><i>Литосфера</i></p>	<p>Круговорот горных пород</p> 

Задание № 3. «Белая ворона»

В каждом из предложенных в перечне географических объектов есть по одному объекту, который является неверным. Определите, что объединяет объекты в перечне и почему один объект «белая ворона».

- 1) Тихий, Индийский, Атлантический, Северный Ледовитый, Антарктида
- 2) Везувий, Костюшко, Килиманджаро, Этна, Кракатау
- 3) Каспийское, Азовское, Охотское, Карское, Чукотское
- 4) Амазонка, Волга, Амур, Нил, Миссисипи, Байкал
- 5) Сихотэ-Алинь, Урал, Кордильеры, Таймыр, Анды
- 6) Алтай, Сахалин, Гренландия, Мадагаскар, Куба
- 7) Хабаровск, Амурск, Биробиджан, Николаевск-на-Амуре, Комсомольск-на-Амуре
- 8) Китай, Япония, Россия, Монголия, Нью-Дели, Бразилия
- 9) Каир, Мехико, Канберра, Варшава, Ярославль
- 10) Африка, Аральское, Виктория, Чад, Ладожское

ВСЕРОССИЙСКАЯ ОЛИМПИАДА ШКОЛЬНИКОВ ПО ГЕОГРАФИИ
(школьный этап)

ТЕСТОВЫЙ ТУР
6 класс

Уважаемый участник олимпиады!

Вам предстоит выполнить тестовые задания. **Время выполнения заданий теоретического тура - 30 минут.**

Выполнение тестовых заданий целесообразно организовать следующим образом:

- не спеша, внимательно прочитайте тестовое задание;
- определите, какой из предложенных вариантов ответа наиболее верный и полный;
- напишите букву, соответствующую выбранному Вами ответу;
- продолжайте, таким образом, работу до завершения выполнения тестовых заданий;
- после выполнения всех предложенных заданий еще раз удостоверьтесь в правильности ваших ответов;
- если потребуется корректировка выбранного Вами варианта ответа, то неправильный вариант ответа зачеркните крестиком, и рядом напишите новый.

Предупреждаем Вас, что:

- при оценке тестовых заданий, где необходимо определить один правильный ответ, 0 баллов выставляется за неверный ответ и в случае, если участником отмечены несколько ответов (в том числе правильный), или все ответы;
 - при оценке тестовых заданий, где необходимо определить все правильные ответы, 0 баллов выставляется, если участником отмечены неверные ответы, большее количество ответов, чем предусмотрено в задании (в том числе правильные ответы) или все ответы.
- Задание тестового тура считается выполненным, если Вы вовремя сдаете его членам жюри.

Максимальная оценка – 11 баллов

Всероссийская олимпиада школьников по географии
школьный этап 2022-2023 учебный год
6 класс

Тестовый тур

1. Выберите ответ на вопрос: Что такое «Фитопланктон»?

- а) организмы, обитающие на поверхности океана;
- б) водоросли прибрежной зоны морей и океанов;
- в) донные животные;
- 1 г) микроскопические растения, обитающие в толще воды передвигающиеся благодаря течениям.

2. Выберите правильный ответ из предложенных вариантов. Усиление концентрации углекислого газа и удержание атмосферой тепла – это явление называется:

- 1 а) мираж б) парниковый эффект в) озоновый экран.

3. Выберите правильный ответ. Типичные представители животного мира саванн:

- а) тушканчик, фенёк, скорпион;
- 1 б) зебра, слон, бегемот;
- в) леопард, анаконда, орангутанг;
- г) медведь, лисица, заяц.

4. Выберите правильный ответ. Последовательность смены поясов освещённости при движении от экватора к полюсу:

- 0 а) умеренный, тропический, полярный;
- б) тропический, умеренный, полярный;
- в) полярный, умеренный, тропический.

5. Выберите правильные ответы. Осевое вращение Земли является причиной:

- а) смены времен года;
- 16 б) смены дня и ночи;
- в) сплюснутости Земного шара у полюсов;
- г) годовой ритмичности природных процессов;
- д) суточной ритмичности природных процессов.

6. Выберите правильные ответы. Гейзеры находятся на территории:

- 1 а) Евразии;
- б) Северной Америки;
- в) Новой Зеландии;
- г) Южной Америки.

7. Выберите правильные ответы. Метаморфической горной породой является:

- 0 а) гнейс; б) мрамор; в) песок; г) базальт.

8. Выберите правильный ответ. Обитателями тундры являются следующие представители фауны:

- 1 а) медведь, бурундук, лось, росомаха;
б) северный олень, белая куропатка, песец, лемминг;
в) кабан, волк, лиса, белка;
г) сайгак, дрофа, серая куропатка, желтобрюхий полоз.

9. Выберите верное утверждение:

1.

- 0,5 а) Озеро - это природный водоём в углублении поверхности суши
б) Вода в озёрах бывает только пресная
в) Озера бывают только одной формы
г) В горах не бывает озёр

2.

- 0,5 а) Каспийское море образовалось в тектоническом разломе
б) Онежское озеро вулканического происхождения
в) Самое большое по площади в мире озеро – Виктория
г) Самое глубокое в мире озеро Байкал

10. Выберите правильный ответ. Типичными представителями растительного мира тропических пустынь:

- 0 а) эвкалипт, баобаб, акация;
б) береза, ель, ольха;
в) саксаул, верблюжья колючка, астрагал;
г) лианы, бамбук, папоротники.

