

Шифр

10	-	1	0	1	7	0	0												
----	---	---	---	---	---	---	---	--	--	--	--	--	--	--	--	--	--	--	--

Всероссийская олимпиада школьников по географии
школьный этап 2022-2023 учебный год
10 класс

ЛИСТ ОТВЕТОВ

Участник олимпиады	
Фамилия	Валов
Имя	Виталий
Отчество	Сергеевич

Баллы					
№ задания	1	2	3	4	Тесты
Количество баллов	3	2	8	5	1,35
Подпись члена жюри					
Сумма баллов и подпись председателя	3,5				

Шифр

10 - 1 0 1 4 0 0

**Всероссийская олимпиада школьников по географии
школьный этап 2022-2023 учебный год**

10 класс

Бланк ответов учащегося для заданий тестового тура

№ вопроса	Правильный ответ (элементы ответа)
1.	А) - вулканизм, Б - эстуарии, В - цунами, Г - тайфун 1
2.	А3; Б2; В4; Г1. 2
3.	В 1
4.	Г.
5.	В.
6.	А.
7.	А -
8.	Б, В.
9.	А.
10.	Б 1
11.	Г 1
12.	Б 1
13.	Г 1
14.	Б.
15.	Г.
16.	В 1
17.	Б
18.	Г 1
19.	А 1
20.	1 А 2 Б 3 А, 4 В 5 Г 2,5

Шифр

10	-	1	0	1	7	0	0											
----	---	---	---	---	---	---	---	--	--	--	--	--	--	--	--	--	--	--

Теоретический тур

Задание № 1. «Родина футбольных клубов»

№	Ответ	
	Клуб	Город
1.	«Шинник»	Набережные Челны
2.	«Арсенал»	Тула 0,5
3	«Нефтехимик»	Нижневартовск
4	«Уралмаш»	Екатеринбург 0,5
5	«Океан»	Махачкала 0,5
6	«Металлург»	Магнитогорск 0,5
7	«Самотлор»	Ирпень
8	«КамАЗ»	Миттякиши.
9	«Енисей»	Красноярск 0,5
10	«Алания»	Владикавказ 0,5

Шифр

10	-	1	0	1	7	0	0												
----	---	---	---	---	---	---	---	--	--	--	--	--	--	--	--	--	--	--	--





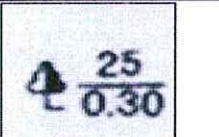
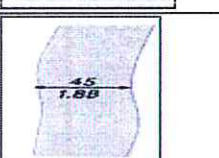

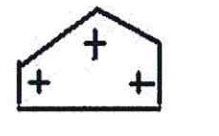
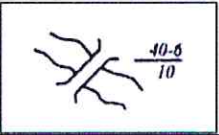

Задание № 2. «Историческая география»

№		Ответ
1.	Запишите имя натуралиста, о котором говорится в Указе президента РФ?	Арсеньев <i>!</i>
2.	Какую горную систему на территории Хабаровского края изучал путешественник?	Сикотэ Ашань <i>!</i>
3	В качестве кого совершил первые свои экспедиции по югу Дальнего Востока?	
4	Кто был кумиром путешественника, очерки которого были первыми настольными книгами об Уссурийском крае?	
5	Чтобы сохранить муку в тайге от сырости нужно мешок с мукой	

Шифр

10	-	1	0	1	7	0	0											
----	---	---	---	---	---	---	---	--	--	--	--	--	--	--	--	--	--	--

Задание № 3. «Топографическое»

Условный знак на топографической карте	Название условного знака (цифровые обозначения)	Номер объекта на Рисунке (если обозначен)
	хвойный лес	
	мост	
	вырубка 0,5	
	церковь 0,5	2
	мост хвойный лес 25 - высота деревьев 0,3 - толщина. 1	1
	река 1,88 - ширина. 1,5	4
	луго 1	3
	каменная каменная церковь 0,5	
	мост 40 - ширина 1,5	5
	отдельно стоящее хвойное дерево 0,5	

Шифр

10	-	1	0	1	7	0	0										
----	---	---	---	---	---	---	---	--	--	--	--	--	--	--	--	--	--

Задание № 4. «Путешествие по Транссибу»

№	Город	Реки	Природная зона	Субъект РФ	Экономический район
1.	Владивосток Хабаровск Иркутск 0,25				
2.	Новосибирск Пермь 0,25	Камма 0,25			
3.	Пермь Новосибирск 0,25	Обь 0,25			
4.	Улан-Удэ Беломорск 0,25			ИЗ	
5.	Улан-Удэ 0,25			Респ Бурятия	
6.	Хабаровск 0,25	Амур 0,25		Хаб. край 0,25	Дальний Восток 0,25

ВСЕРОССИЙСКАЯ ОЛИМПИАДА ШКОЛЬНИКОВ ПО ГЕОГРАФИИ
(школьный этап)

ТЕОРЕТИЧЕСКИЙ ТУР

10 класс

Уважаемый участник олимпиады!

Вам предстоит выполнить теоретические задания. **Время выполнения заданий теоретического тура 90 минут.**

Выполнение теоретических (письменных) заданий целесообразно организовать следующим образом:

- не спеша, внимательно прочитайте задание и определите, наиболее верный и полный ответ;
- отвечая на теоретические вопросы и выполняя практические задания, обдумайте и сформулируйте конкретный ответ только на поставленный вопрос;
- если Вы отвечаете на задание, связанное с заполнением таблицы или схемы, не старайтесь детализировать информацию, вписывайте только те сведения или данные, которые указаны в вопросе;
- особое внимание обратите на задания, в выполнении которых требуется выразить Ваше мнение с учетом анализа ситуации или поставленной проблемы. Внимательно и вдумчиво определите смысл вопроса и логику ответа (последовательность и точность изложения). Отвечая на вопрос, предлагайте свой вариант решения проблемы, при этом ответ должен быть кратким, но содержать необходимую информацию;
- после выполнения всех предложенных заданий еще раз удостоверьтесь в правильности выбранных Вами ответов и решений.

Предупреждаем Вас, что:

- при оценке тестовых заданий, где необходимо определить один правильный ответ, 0 баллов выставляется за неверный ответ и в случае, если участником отмечены несколько ответов (в том числе правильный), или все ответы;
 - при оценке тестовых заданий, где необходимо определить все правильные ответы, 0 баллов выставляется, если участником отмечены неверные ответы, большее количество ответов, чем предусмотрено в задании (в том числе правильные ответы) или все ответы.
- Задание теоретического тура считается выполненным, если Вы вовремя сдаете его членам жюри.

Максимальная оценка - 35,5 баллов

**Всероссийская олимпиада школьников по географии
школьный этап 2022-2023 учебный год
10 класс**

Теоретический тур

Задание №1. «Родина футбольных клубов»

Один английский футбольный клуб пожелал провести 10 товарищеских матчей с российскими командами. В ответ на заявку о проведении матчей в 10 разных городах России пришел список клубов, с которыми можно провести игры.

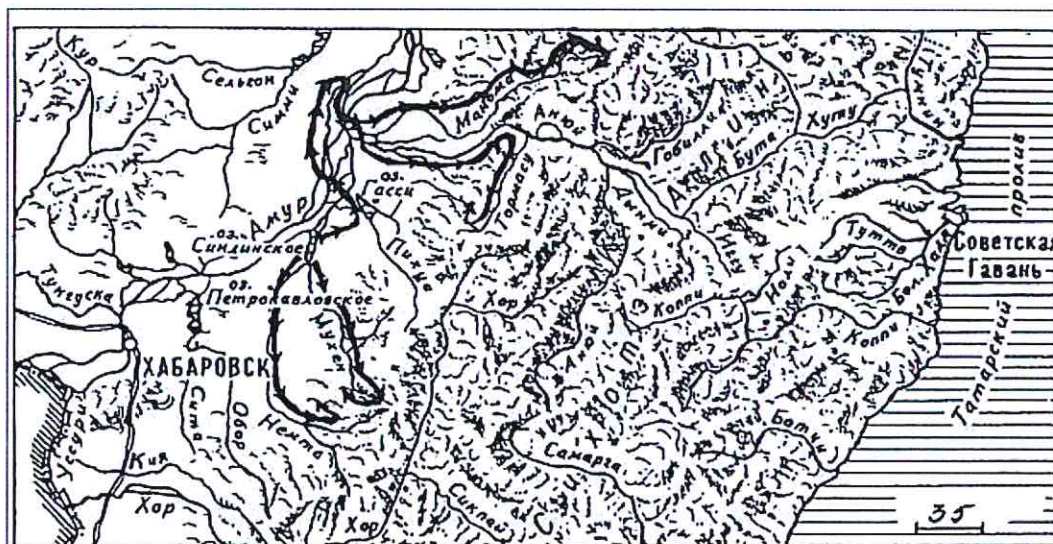
Помогите англичанам составить маршрут с названием городов России где состоятся матчи с перечисленными ниже клубами.

Клубы: «Шинник» «Нефтехимик» «Арсенал» «Уралмаш» «Океан» «Металлург» «Самотлор» «Камаз» «Енисей» «Алания»

Города: Магнитогорск, Нижневартовск, Ярославль, Екатеринбург, Тула, Находка, Нижнекамск, Владикавказ, Набережные Челны, Красноярск

Задание №2. «Историческая география»

Указом Президента Российской Федерации от 01.11.2021 № 620 2022 год объявлен годом празднования 150-летия со дня рождения великого путешественника, писателя и исследователя ...




1. *Запишите имя натуралиста, о котором говорится в Указе президента РФ?*
2. *Какую горную систему на территории Хабаровского края изучал путешественник?*
3. *В качестве кого совершил первые свои экспедиции по югу Дальнего Востока?*

<p>4.</p> 	<p>Кто был кумиром путешественника, очерки которого были первыми настольными книгами об Уссурийском крае?</p>
---	---

5. В экспедициях очень трудно хранить провизию. Путешественник, о котором рассказывается в тексте, придумал способ сохранить в экспедициях продукты. Поэтому, чтобы сохранить муку в тайге от сырости нужно мешок с мукой

Задание №3. «Топографическое»

В последние годы системы спутниковой навигации (GPS) стоят почти в каждом автомобиле и уже мало кто отваживается поехать по незнакомому маршруту без такого устройства. Но, навигатор барахлит, а вам необходимо добраться из пункта А в пункт Б и не заблудиться? Совсем не обязательно признавать поражение и обращаться за помощью. Достаньте из бардачка старую добрую карту! Отправляетесь ли в пеший поход в горы или намереваетесь пересечь всю страну на своем автомобиле, умение работать с картой — весьма практичный и полезный навык для каждого.



Вопреки общепринятому мнению, в этом нет ничего сложного. Разберитесь в ключевых обозначениях вроде масштаба, широты, долготы и топографических линий, чтобы легко определять по карте любой маршрут. Рассмотрите фотографию и выполните задания.

Задание: *Соотнесите объект на снимке с условными знаками топографической карты; название условного знака; атрибутивная информация условного знака (расшифровка текстовых подписей условных знаков). Заполните таблицу*

Задание №4. «Путешествие по Транссибу»

Представьте, что Вы путешествуете по Транссибирской железнодорожной магистрали (Транссиб) с запада на восток. Расставьте города, которые Вы посетите по ходу движения. Назовите реки, которые пересекает магистраль, а также природные зоны, в пределах которых расположены города. К каким субъектам Российской Федерации и экономическим районам они относятся? Ответы на вопросы запишите в таблицу.

Города, в которых Вы побываете: *Белогорск, Новосибирск, Пермь, Улан-Удэ, Хабаровск, Ярославль.*

ВСЕРОССИЙСКАЯ ОЛИМПИАДА ШКОЛЬНИКОВ ПО ГЕОГРАФИИ
(школьный этап)

ТЕСТОВЫЙ ТУР

10 класс

Уважаемый участник олимпиады!

Вам предстоит выполнить тестовые задания. **Время выполнения заданий тестового тура - 45 минут.**

Выполнение тестовых заданий целесообразно организовать следующим образом:

- не спеша, внимательно прочитайте тестовое задание;
- определите, какой из предложенных вариантов ответа наиболее верный и полный;
- напишите букву, соответствующую выбранному Вами ответу;
- продолжайте, таким образом, работу до завершения выполнения тестовых заданий;
- после выполнения всех предложенных заданий еще раз удостоверьтесь в правильности ваших ответов;
- если потребуется корректировка выбранного Вами варианта ответа, то неправильный вариант ответа зачеркните крестиком, и рядом напишите новый.

Предупреждаем Вас, что:

- при оценке тестовых заданий, где необходимо определить один правильный ответ, 0 баллов выставляется за неверный ответ и в случае, если участником отмечены несколько ответов (в том числе правильный), или все ответы;
- при оценке тестовых заданий, где необходимо определить все правильные ответы, 0 баллов выставляется, если участником отмечены неверные ответы, большее количество ответов, чем предусмотрено в задании (в том числе правильные ответы) или все ответы.

Задание тестового тура считается выполненным, если Вы вовремя сдаете его членам жюри.

Максимальная оценка – 24,5 баллов

Всероссийская олимпиада школьников по географии
школьный этап 2022-2023 учебный год

10 класс
Тестовый тур

1. Из каждой строки выпишите процессы, явления или объекты, не характерные для Зарубежной Европы.

- А) выветривание, вулканизм, карст, термокарст, речная эрозия
- Б) меандры, ледостав, наледь, половодье, эстуарий
- В) мальстрем, течение, волнение, прилив, цунами
- Г) полярный фронт, температурная аномалия, туман, тайфун, бора

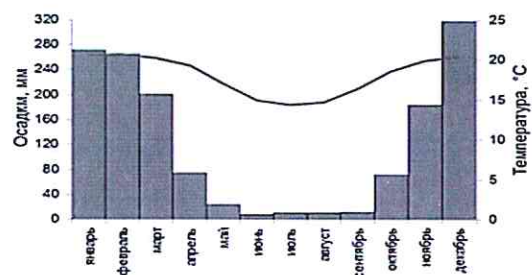
2. Установите соответствие: регион Дальнего Востока – региональный центр.

- | | |
|-------------------------------|-----------------------------|
| А) Приморский край | 1) Анадырь |
| Б) Сахалинская область | 2) Южно-Сахалинск |
| В) Камчатский край | 3) Владивосток |
| Г) Чукотский автономный округ | 4) Петропавловск-Камчатский |

3. Этот остров, самый большой в своём архипелаге и одновременно самый редконаселённый, делят между собой три страны. Его недра богаты нефтью, жители прибрежных районов исповедуют ислам, а в глубине острова живут первобытные племена.

- А) Новая Гвинея
- Б) Баффинова Земля
- ⓑ) Калимантан
- Г) Тринидад

4. На рисунке изображена климатограмма столицы государства, располагающегося на одноименном острове, известном биологам и географам большим количеством эндемиков. Это островное государство является аграрной страной. Основными экспортными культурами являются кофе, ваниль и сахар. О какой стране идёт речь?



А) Ирландия

В) Куба

Б) Мадагаскар

Г) Кипр

5. Какая страна из перечисленных никогда не имела колониального статуса?

А) Бруней

Б) Вьетнам

В) Индия

Г) Таиланд

6. Какой вид неисчерпаемых ресурсов используется на Кольском полуострове?

А) Геотермальная энергия

Б) Энергия приливов и отливов

В) Энергия ветра

Г) Солнечная энергия

7. Какова географическая долгота пункта, если его местное время опережает Гринвичское на 1 час?

А) 15° з.д.

Б) 15° в.д.

В) 35° з.д.

Г) 35° в.д.

8. Выберите объекты, непосредственно относящиеся к акватории и побережью глубочайшего озера мира

А) Хамар-Дабан

Б) Ингода

В) Селемджа

Г) Селенга

9. Группа выехала из национального парка Баминги-Бангоран и отправилась по кратчайшему расстоянию в южную часть парка Салонга. По пути они столкнулись с группой туристов, едущих им навстречу. По какому азимуту двигалась вторая группа туристов?

А) 270° Б) 180° В) 0° Г) 90°

10. На границе какого государства и региона России находится крайняя южная точка нашей страны:

А) Грузия – Республика Карачаево-Черкесия

Б) Азербайджан – Республика Дагестан

В) Монголия – Республика Тува

Г) Северная Корея – Приморский край.

11. Отметьте религию, которой придерживаются народы финно-угорской группы:

- А) буддизм
- Б) иудаизм
- В) ислам
- Г) православие

12. Для окружающей природы наиболее опасны предприятия:

- А) легкой промышленности
- Б) цветной металлургии
- В) автомобилестроения
- Г) пищевой промышленности

13. Выберите фактор размещения, не важный для размещения предприятий нефтеперерабатывающей промышленности:

- А) электроэнергетический
- Б) транспортный
- В) трудовой
- Г) экологический

14. Выберите верное соответствие: субъект Российской Федерации – угольный бассейн, расположенный на его территории.

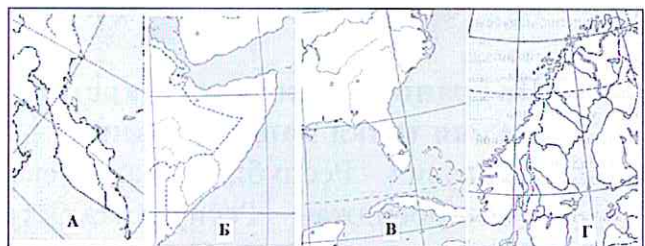
- А) Архангельская область – Печорский бассейн
- Б) Краснодарский край – Донецкий бассейн
- В) Краснодарский край – Кузнецкий бассейн
- Г) Республика Хакасия – Минусинский бассейн

15. Регион России, граничащий с тремя зарубежными странами:

- А) Псковская область
- Б) Брянская область
- В) Ростовская область
- Г) Приморский край

16. В рельефе какого полуострова наблюдается наименьшее абсолютное превышение?

- А) А
- Б) Б
- В) В
- Г) Г



17. Какая природная зона занимает наименьшую площадь на территории России?

- А) жестколистных лесов и кустарников;
- Б) полупустынь;

- В) лесостепь;
- Г) лесотундра

18. Какой остров Северного Ледовитого океана, который пересекает 180 меридиан, называют «родильным домом» белых медведей?

- А) Котельный;
- Б) Виктория;
- В) Беннетта;
- Г) Врангеля

19. По описанию выберите две горные системы России с некоторыми сходными чертами: «Эти горные системы вытянуты с севера на юг; преобладают низкогорья и среднегорья; максимальное количество осадков приходится на летний период. Отличаются они по времени образования (герцинская и мезозойская складчатости); а также наветренным склоном у одной горной системы является западный, а у другой – восточный»

- А) Сихотэ-Алинь и Урал;
- Б) Кавказ и Урал;
- В) Алтай и Урал;
- Г) Срединный хребет Камчатки и Урал

20. Установите соответствия: «пара островов зарубежного мира – пролив между ними».

- 1) Гренландия – Исландия
- 2) Чукотка – Аляска
- 3) Южная Америка-Антарктида
- 4) Северный – Южный
- 5) Суматра – Ява

А) Датский Б) Берингов В) Кука Г) Зондский Д) Дрейка

1 А
2 Б

3 А

4 В

5 Г

