

Шифр

5	-	0	5	1	3	1	7												
---	---	---	---	---	---	---	---	--	--	--	--	--	--	--	--	--	--	--	--

Всероссийская олимпиада школьников по географии  
школьный этап 2022-2023 учебный год  
5 класс

ЛИСТ ОТВЕТОВ

Участник олимпиады	
Фамилия	Юрменсон
Имя	Сергей
Отчество	Станиславовича

Баллы

№ задания	1	2	3	Тесты
Количество баллов	5,25	11,5	10	12,5
Подпись члена жюри				
Сумма баллов и подпись председателя	39,25	7		



Шифр

5 - 0 5 1 3 1 7

**Всероссийская олимпиада школьников по географии  
школьный этап 2022-2023 учебный год**

**5 класс**

**Бланк ответов учащегося для заданий тестового тура**

№ вопроса	Правильный ответ (элементы ответа)
1.	(Г) Вулканы Камчатки 1
2.	(Б) Евразия 1
3.	(Г) В Астраханьске 0,5
4.	(Б) Недостаток пищи 1
5.	A-2 + Г-1 Б-3 - B-4 + 1
6.	(д) Пундра, зооветеринар „Остров Вран-геля“ 0
7.	1-В + 4-Г + 2-д + 3-Б + 2
8.	(В) Север 1
9.	(В) Вала (Г) Дон 1
10.	(2) Москва (1) Санкт-Петербург. (3) Ханты Мансийск (4) Якутск 4

Шифр

5	-	0	5	1	3	1	7											
---	---	---	---	---	---	---	---	--	--	--	--	--	--	--	--	--	--	--

**Теоретический тур**  
**Задание № 1 «Историческое»**

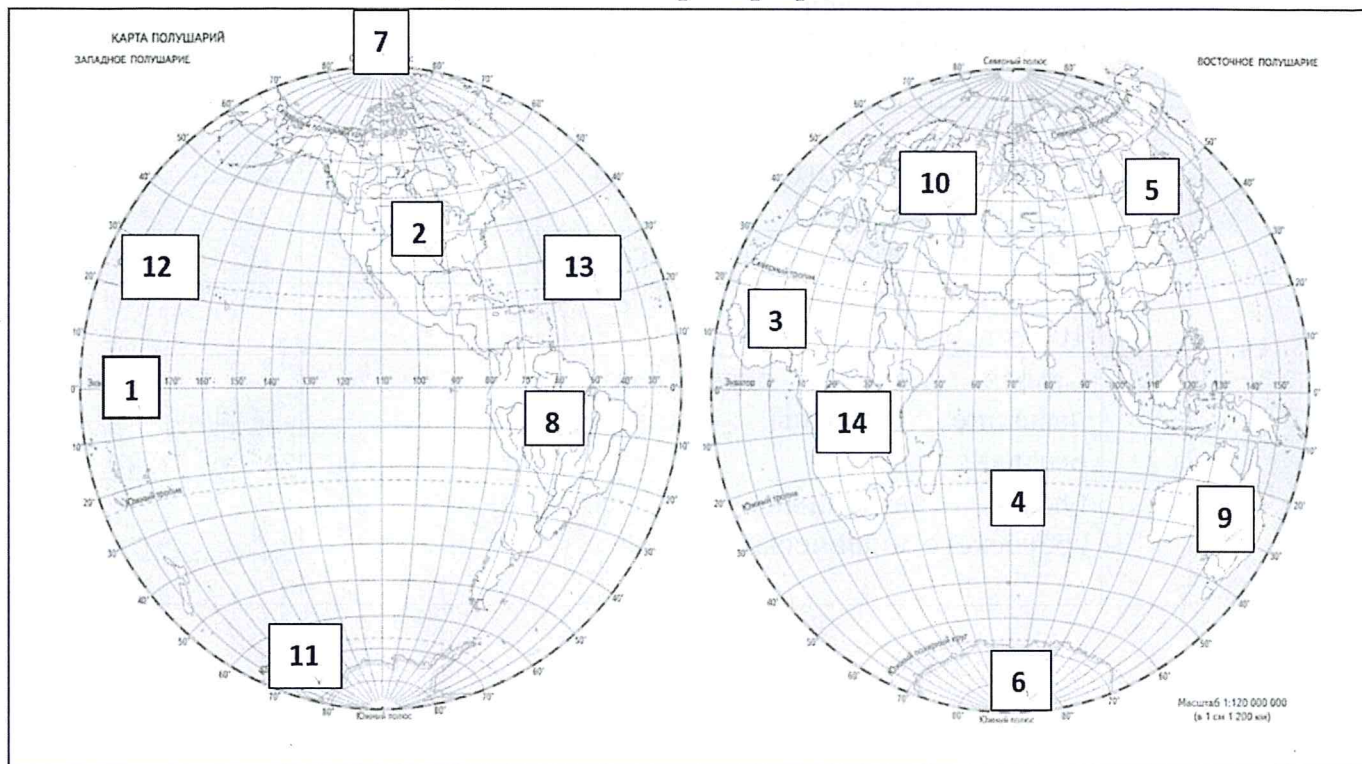
№	Вопрос	Ответ
1.	Назовите даты первого кругосветного путешествия. <span style="color:red">1</span>	1519г. - 1521г.
2.	Кто был организатором этого уникального плавания? <span style="color:red">1</span>	Фернан Магелан
3.	Какому океану он дал название и почему именно такое? <span style="color:red">1</span>	Тихому океану, именно такое название потому что он добрался без приключений.
4.	Выберите объекты, которые не могли встретиться на пути у путешественников: <span style="color:red">1,25</span>	Малайский архипелаг, Красное море, Филиппинский полуостров, полуостров, остров Сахалин, остров Восточной Азии, Филиппинский полуостров, Филиппинские острова.
5.	Какие имена носили корабли этой морской экспедиции?	
6.	Какой корабль вернулся на родину?	
7.	Кто в результате этого плавания получил титул дворянина и герб? <span style="color:red">1</span>	Хуана Элькано
8.	Кто и когда совершил кругосветное путешествие за 108 минут?	Христофор Колумб
9.	На каком корабле это было совершено?	
10.	Гражданином какой страны?	Португалии



Шифр

5 - 0 5 1 3 1 7

Задание № 2 «Картографическое»



№	Вопрос	Ответ цифра на карте	–	Ответ географический объект	–
А	Столица РФ – город...	10		Москва	1
Б	Город - центр нашего края – город...	5		Владивосток	0,5
В	Где начинается отчет широт?	1		Экватор	1
Г	Место – начало отсчета долгот?	3		Нулевой меридиан	1
Д	Место на земном шаре, имеющее только широту, какую?	11		Южный полярный круг	
Е	Самый жаркий материк	14		Африка	1
Ж	Самый сухой материк	9		Австралия	1

## Шифр

5	-	0	5	1	3	1	7										
---	---	---	---	---	---	---	---	--	--	--	--	--	--	--	--	--	--

З	Самый влажный материк	1	8	Южная Америка
И	Самый холодный материк	1	6	Антарктида
К	Особая параллель, где солнце бывает в зените 22 июня	1	12	Северный тропик
Л	Параллель, за которой в декабре, солнце не заходит за горизонт – полярный день		7	<del>Антарктида</del> Северный полюс
М	На каком материке располагается точка с координатами - 40°с.ш. и 100°з.д.	1	2	Северная Америка
Н	Самый теплый океан носит название страны, которую омывает	1	4	Индийский океан
О	Океан, названный в честь греческого мифического героя	1	13	Атлантический океан

Шифр

5	-	0	5	1	3	1	7											
---	---	---	---	---	---	---	---	--	--	--	--	--	--	--	--	--	--	--

Задание № 3 «Водное»

№	Вопрос	Ответ
1.	Человек моется водой сам, моет посуду, полы, стирает в ней белье. Какое свойство воды при этом использует человек?	человек использует жидкое свойство воды.
2	Много рек течет со всех сторон в моря. Почему же море не переполняется и не заливают сушу?	
3	Зачем в крышке чайника делают небольшое отверстие?	Для того чтобы выходил воздух, а не скапливался внутри.
4	Летом по утрам часто можно на листьях кустарников и на траве появляется роса. Объясните, почему появляется роса.	Роса - это опустившийся туман на растении и именно летом по утрам есть туман.
5	Почему сырое белье, развешенное на балконе, в теплую погоду сохнет быстрее, чем в холодную?	В холодную погоду может быть пасмурно чаще всего нет яркого солнца, а в теплую оно есть, от этого зависит скорость сушки белья.
6	Почему ключевая вода в колодцах всегда чище, чем в реках или прудах?	Потому что ключевая, сразу из источника, а в реках она проходит много грязных мест.
7	Почему вода в глубоких колодцах и ключах всегда холодная?	Потому что в них не доходят солнечные лучи.
8	Часто воду называют «вечной страницей». К.Д. Ушинский называет её «неутомимая путешественница». Объясните, почему воде	Потому что вода течёт непрерывно и вечно путешествует по всей планете.



## Шифр

5	-	0	5	1	3	1	7											
---	---	---	---	---	---	---	---	--	--	--	--	--	--	--	--	--	--	--

	даны такие названия?	
9	Почему вода в реках у берегов течет медленнее, чем в середине (стремнина реки)?	Потому что в середине течения быстрее и поток сильнее.
10	М.Ю. Лермонтов в своем стихотворении «Тучи» написал: «Тучки небесные, вечные странники!..» Правильно ли поэт называет тучи вечными странниками?	Да, потому что они постоянно тьмут по небу.
11	Почему во время ледохода лёд плывет по поверхности воды и не тонет?	Потому что лёд это замёрзшая вода, у них одинаковая плотность.
12	При постройке гидроэлектростанций реку перекрывают плотиной, поднимая уровень воды. Зачем это делают?	Чтобы вода переживалась, и гидроэлектростанция работала.
13	В чем сходство и в чем различие между туманом и облаком?	туман это вода которая испарилась, а облако нет.
14	Почему нашу планету было бы правильно назвать планета Океан?	Потому что на ней больше воды чем где либо на других планетах.

**ВСЕРОССИЙСКАЯ ОЛИМПИАДА ШКОЛЬНИКОВ ПО ГЕОГРАФИИ**  
**(школьный этап)**

**ТЕОРЕТИЧЕСКИЙ ТУР**

**5 класс**

*Уважаемый участник олимпиады!*

Вам предстоит выполнить теоретические задания. **Время выполнения заданий теоретического тура 45 минут.**

*Выполнение теоретических (письменных) заданий целесообразно организовать следующим образом:*

- не спеша, внимательно прочитайте задание и определите, наиболее верный и полный ответ;
- отвечая на теоретические вопросы и выполняя практические задания, обдумайте и сформулируйте конкретный ответ только на поставленный вопрос;
- если Вы отвечаете на задание, связанное с заполнением таблицы или схемы, не старайтесь детализировать информацию, вписывайте только те сведения или данные, которые указаны в вопросе;
- особое внимание обратите на задания, в выполнении которых требуется выразить Ваше мнение с учетом анализа ситуации или поставленной проблемы. Внимательно и вдумчиво определите смысл вопроса и логику ответа (последовательность и точность изложения). Отвечая на вопрос, предлагайте свой вариант решения проблемы, при этом ответ должен быть кратким, но содержать необходимую информацию;
- после выполнения всех предложенных заданий еще раз удостоверьтесь в правильности выбранных Вами ответов и решений.

*Предупреждаем Вас, что:*

- при оценке тестовых заданий, где необходимо определить один правильный ответ, 0 баллов выставляется за неверный ответ и в случае, если участником отмечены несколько ответов (в том числе правильный), или все ответы;
- при оценке тестовых заданий, где необходимо определить все правильные ответы, 0 баллов выставляется, если участником отмечены неверные ответы, большее количество ответов, чем предусмотрено в задании (в том числе правильные ответы) или все ответы.

Задание теоретического тура считается выполненным, если Вы вовремя сдаете его членам жюри.

**Максимальная оценка – 40 баллов**



**Всероссийская олимпиада школьников по географии**  
**школьный этап 2022-2023 учебный год**  
**5 класс**


**Теоретический тур**

**Задание №1. «Историческое»**

XV-XVI вв. называют эпохой великих географических открытий. Самое выдающееся путешествие – это первое кругосветное плавание.

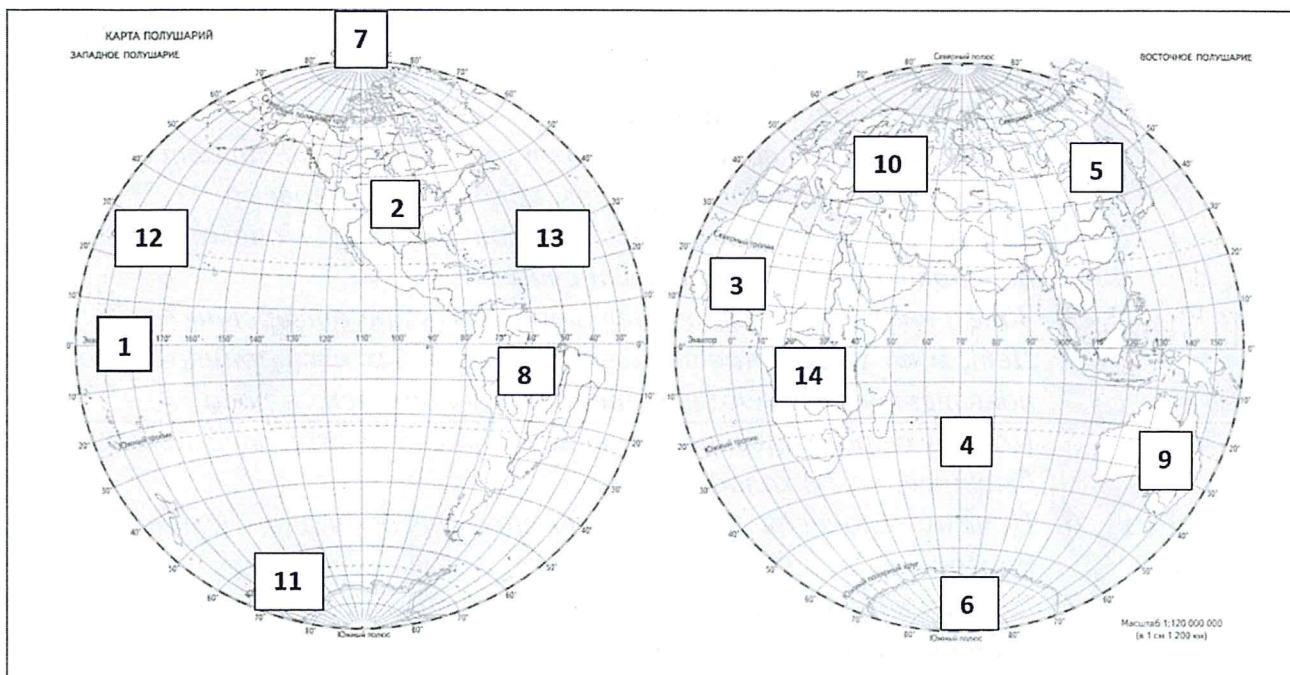


1. Назовите даты первого кругосветного путешествия.
2. Кто был организатором этого уникального плавания?
3. Какому океану он дал название и почему именно такое?
4. Вспомните маршрут плавания и выберите объекты, которые не могли встретиться на пути у путешественников: Южная Америка, Малайский архипелаг, Красное море, Австралия, Аппенинский полуостров, Тихий океан, остров Сахалин, остров Великобритания, острова Огненная Земля, Аравийский полуостров, Филиппинские острова? ✓
5. Какие имена носили корабли этой морской экспедиции?
6. Какой корабль вернулся на родину?
7. Кого из участников плавания испанский король Карл V удостоил после возвращения звания дворянина и собственного герба, где распорядился изобразить земной шар с надписью на латыни «Ты первым обогнул меня» (Primus circumdedisti me)?
8. Кто и когда совершил кругосветное путешествие за 108 минут?
9. На каком корабле это было совершено?
10. Гражданином какой страны?





## Задание №2. «Картографическое»



Перед Вами карта полушарий. Каждая цифра не случайно расположена именно в данном месте, она обозначает элемент градусной сетки или географический объект.

Прочитайте вопросы и определитесь с выбором цифр и названий элементов градусной сетки и географических названий.

<i>А) Столица РФ – город...</i>
<i>Б) Город - центр нашего края – город...</i>
<i>В) Где начинается отчет широт?</i>
<i>Г) Место – начало отсчета долгот?</i>
<i>Д) Место на земном шаре, имеющее только широту, какую?</i>
<i>Е) Самый жаркий материк</i>
<i>Ж) Самый сухой материк</i>
<i>З) Самый влажный материк</i>
<i>И) Самый холодный материк</i>
<i>К) Особая параллель, где солнце бывает в зените 22 июня</i>
<i>Л) Параллель, за которой в декабре, солнце не заходит за горизонт – полярный день</i>
<i>М) На каком материке располагается точка с координатами - 40°с.ш. и 100°з.д.</i>
<i>Н) Самый теплый океан носит название страны, которую омывает</i>
<i>О) Океан, названный в честь греческого мифического героя</i>

### Задание №3. «Водное»

**«Вода всему голова!»** - русская пословица указывает на важность этого вещества на нашей планете. Какие особенности воды определили ей такое место? Попробуем разобраться.

1. *Человек моется водой сам, моет посуду, полы, стирает в ней белье. Какое свойство воды при этом использует человек?*
2. *Много рек течет со всех сторон в моря. Почему же море не переполняется и не заливают сушу?*
3. *Зачем в крышке чайника делают небольшое отверстие?*
4. *Летом по утрам часто можно на листьях кустарников и на траве появляется роса. Объясните, почему появляется роса.*
5. *Почему сырое белье, развешенное на балконе, в теплую погоду сохнет быстрее, чем в холодную?*
6. *Почему ключевая вода в колодцах всегда чище, чем в реках или прудах?*
7. *Почему вода в глубоких колодцах и ключах всегда холодная?*
8. *Часто воду называют «вечной страницей». К.Д. Ушинский называет её «неутомимая путешественница». Объясните, почему воде даны такие названия?*
9. *Почему вода в реках у берегов течет медленнее, чем в середине (стремнина реки)?*
10. *М.Ю. Лермонтов в своем стихотворении «Тучи» написал: «Тучки небесные, вечные странники!..» Правильно ли поэт называет тучи вечными странниками?*
11. *Почему во время ледохода лёд плывет по поверхности воды и не тонет?*
12. *При постройке гидроэлектростанций реку перекрывают плотиной, поднимая уровень воды. Зачем это делают?*
13. *В чем сходство и в чем различие между туманом и облаком?*
14. *Почему нашу планету было бы правильно назвать планета Океан?*

**ВСЕРОССИЙСКАЯ ОЛИМПИАДА ШКОЛЬНИКОВ ПО ГЕОГРАФИИ**  
**(школьный этап)**

**ТЕСТОВЫЙ ТУР**  
**5 класс**

*Уважаемый участник олимпиады!*

Вам предстоит выполнить тестовые задания. **Время выполнения заданий теоретического тура - 30 минут.**

*Выполнение тестовых заданий целесообразно организовать следующим образом:*

- не спеша, внимательно прочитайте тестовое задание;
- определите, какой из предложенных вариантов ответа наиболее верный и полный;
- напишите букву, соответствующую выбранному Вами ответу;
- продолжайте, таким образом, работу до завершения выполнения тестовых заданий;
- после выполнения всех предложенных заданий еще раз удостоверьтесь в правильности ваших ответов;
- если потребуется корректировка выбранного Вами варианта ответа, то неправильный вариант ответа зачеркните крестиком, и рядом напишите новый.

*Предупреждаем Вас, что:*

- при оценке тестовых заданий, где необходимо определить один правильный ответ, 0 баллов выставляется за неверный ответ и в случае, если участником отмечены несколько ответов (в том числе правильный), или все ответы;
  - при оценке тестовых заданий, где необходимо определить все правильные ответы, 0 баллов выставляется, если участником отмечены неверные ответы, большее количество ответов, чем предусмотрено в задании (в том числе правильные ответы) или все ответы.
- Задание тестового тура считается выполненным, если Вы вовремя сдаете его членам жюри.

**Максимальная оценка – 15 баллов**



**Всероссийская олимпиада школьников по географии**  
**школьный этап 2022-2023 учебный год**  
**5 класс**

**Тестовый тур**

**1. Выберите ответ на вопрос:** Какой из памятников Всемирного природного наследия находится в России?

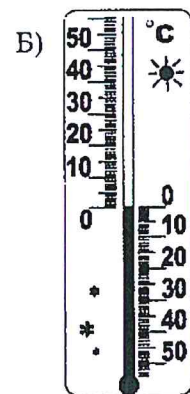
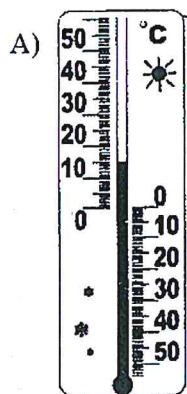
- А) водопад Виктория
- Б) Большой Барьерный риф
- В) Большой каньон
- Г) вулканы Камчатки

**2. Выберите правильный ответ из предложенных вариантов.** Территория Российской Федерации находится на материке:

- А) Африка
- Б) Евразия
- В) Северная Америка
- Г) Австралия

**3. Соотнесите букву рисунка с цифрой.** Вера живет в г. Архангельске, на севере нашей родины, а Люба живет в г. Сочи, на Черноморском побережье Кавказа. Показания какого термометра будут соответствовать температуре в этих городах в апреле месяце?

- 1) в Архангельске
- 2) в Сочи



**4. Выберите правильный ответ.** Основной причиной, по которой птицы осенью улетают на юг является:

- А) уменьшение светового дня
- Б) недостаток пищи
- В) замерзание почвы
- Г) отсутствие листьев на деревьях

**5. Соотнесите растение с природной зоной, для которого характерно это растение.**

Природная зона	Растение
А) степь	1) дуб
Б) широколиственный лес	2) ковыль
В) тундра	3) лиственница
Г) тайга	4) карликовая береза

6. Выберите правильный ответ. О какой природной зоне и каком заповеднике идёт речь?

Эта природная зона представляет собой безлесную равнину, которая расположена южнее зоны арктических пустынь. Зима в ней долгая и суровая, а лето – короткое. Растительный и животный мир охраняется, здесь создан заповедник.

- А) тундра, заповедник «остров Врангеля»
- Б) тундра, Таймырский заповедник
- В) степь, Даурский заповедник
- Г) тундра, Сихотэ-Алинский заповедник

7. Соотнесите определение и термин, к которому оно относится.

А) приток    Б) исток    В) устье    Г) русло

Какой термин скрывается за четвертым определением?

- 1) Место, где река впадает в озеро, море или другую реку
- 2) Река, впадающая в другую реку
- 3) Место, где река берёт своё начало
- 4) Наиболее углублённая часть речной долины, по которой протекает речной поток

8. Выберите правильные ответы. Синяя стрелка компаса показывает направление на:

А) восток    Б) юг     В) север    Г) запад

9. Выберите правильные ответы. Какие реки не протекают в Азии?

А) Амур    Б) Енисей     В) Волга     Г) Дон

10. Определите: Какая цифра на карте указывает столицу нашей страны? Какие города обозначают оставшиеся цифры?





Шифр

50

5	2	4	8	6															
---	---	---	---	---	--	--	--	--	--	--	--	--	--	--	--	--	--	--	--

Всероссийская олимпиада школьников по географии  
школьный этап 2022-2023 учебный год  
5 класс

ЛИСТ ОТВЕТОВ

Участник олимпиады	
Фамилия	Кузнец
Имя	Валерия
Отчество	Михайловна

Баллы

№ задания	1	2	3	Тесты
Количество баллов	35	20	6	115
Подпись члена жюри				
Сумма баллов и подпись председателя	31	7		



Шифр

5-0 5 2 4 8 6

5	2	4	8	6														
---	---	---	---	---	--	--	--	--	--	--	--	--	--	--	--	--	--	--

**Всероссийская олимпиада школьников по географии  
школьный этап 2022-2023 учебный год  
5 класс**

**Бланк ответов учащегося для заданий тестового тура**

№ вопроса	Правильный ответ (элементы ответа)
1.	Г 1
2.	Б 1
3.	ММБ 2. А 0,5
4.	Б 1
5.	А - 2+ Б - 1+ В - 4+ 2 Г - 3+
6.	Г 0
7.	1. А. 2. Б. 3. В. 4. Г 0,5
8.	В 1
9.	Г 0,5
10.	2. Москва 1. Санкт-Петербург 4 3. Ханты-Мансийск 4. Якутск

Шифр

50

5	2	ч	8	6															
---	---	---	---	---	--	--	--	--	--	--	--	--	--	--	--	--	--	--	--

## Теоретический тур

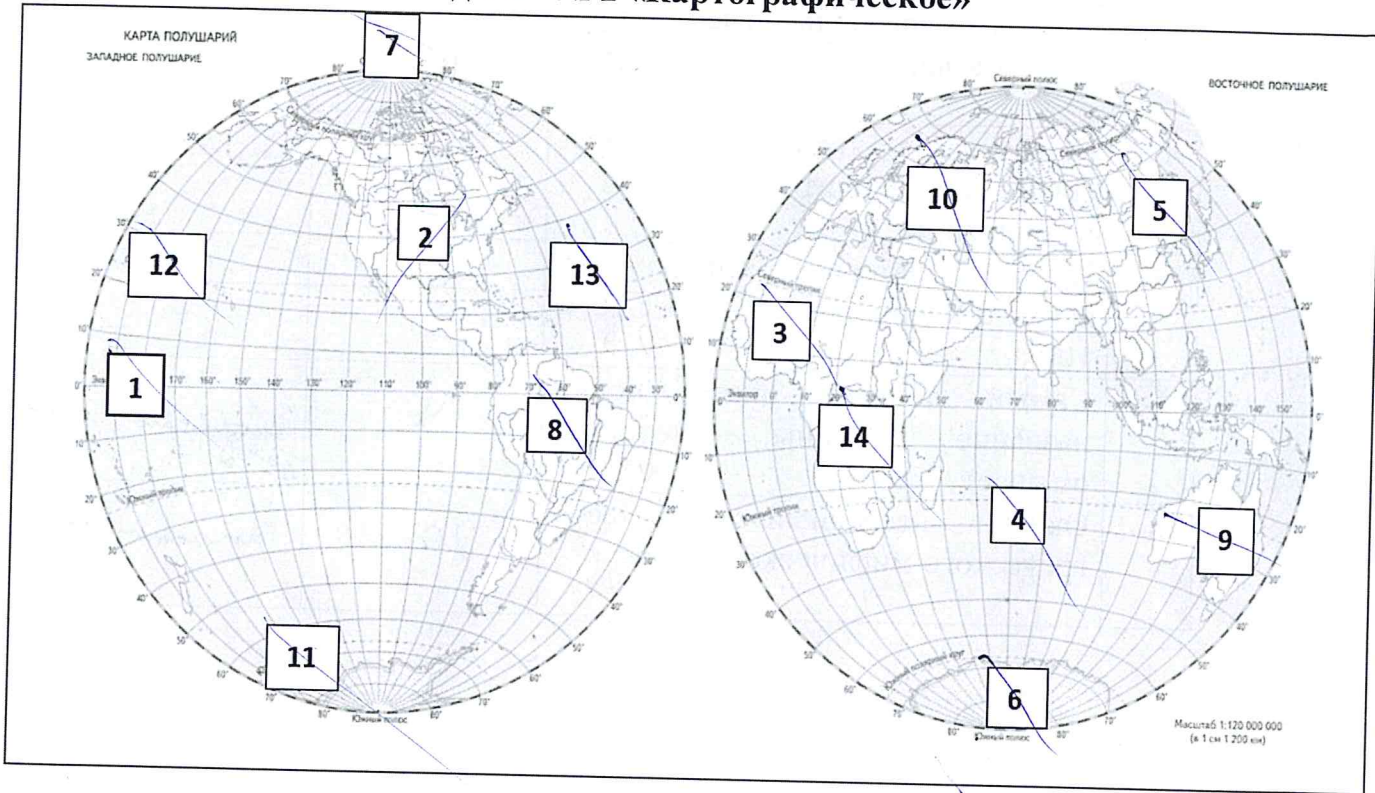
## Задание № 1 «Историческое»

№	Вопрос	Ответ
1.	Назовите даты первого кругосветного путешествия.	1519 <del>1521</del> 0,5
2.	Кто был организатором этого уникального плавания?	97. Магелан 0,5
3.	Какому океану он дал название и почему именно такое?	Тихий океан 0,5
4.	Выберите объекты, которые не могли встретиться на пути у путешественников:	—
5.	Какие имена носили корабли этой морской экспедиции?	<del>"Пингвин"</del> "Сан-Антонио" "Виктория" и "Санта-Каталина" "Сан-Антонио" 2
6.	Какой корабль вернулся на родину?	—
7.	Кто в результате этого плавания получил титул дворянина и герб?	—
8.	Кто и когда совершил кругосветное путешествие за 108 минут?	—
9.	На каком корабле это было совершено?	—
10.	Гражданином какой страны?	—

Шифр

5 2 4 8 6

Задание № 2 «Картографическое»



№	Вопрос	Ответ цифра на карте	—	Ответ географический объект	—
А	Столица РФ – город...	10		Москва	1
Б	Город - центр нашего края – город...	5		Хабаровск	1
В	Где начинается отчет широт?	1		Экватор	1
Г	Место – начало отсчета долгот?	11		Гринвич	0,5
Д	Место на земном шаре, имеющее только широту, какую?	7		Северный полюс	1
Е	Самый жаркий материк	14		Африка	1
Ж	Самый сухой материк	9		Австралия	1



Шифр

5-0

5	2	4	0	6														
---	---	---	---	---	--	--	--	--	--	--	--	--	--	--	--	--	--	--

З	Самый влажный материк	0,5	2	
И	Самый холодный материк	1	6	Антарктида
К	Особая параллель, где солнце бывает в зените 22 июня	0,5	12	
Л	Параллель, за которой в декабре, солнце не заходит за горизонт – полярный день		3	
М	На каком материке располагается точка с координатами - 40°с.ш. и 100°з.д.	0,5	2	
Н	Самый теплый океан носит название страны, которую омывает	0,5	4	Индийский океан
О	Океан, названный в честь греческого мифического героя	0,5	12	Атлантический



Шифр

5-0

5	2	4	8	6														
---	---	---	---	---	--	--	--	--	--	--	--	--	--	--	--	--	--	--

## Задание № 3 «Водное»

№	Вопрос	Ответ
1.	Человек моется, водой сам, моет посуду, полы, стирает в ней белье. Какое свойство воды при этом использует человек?	Чистящие
2	Много рек течет со всех сторон в моря. Почему же море не переполняется и не заливают сушу?	Потому что вода испаряется превращается в пар и из него идет дождь. и так по кругу
3	Зачем в крышке чайника делают небольшое отверстие?	Чтобы из него выводился пар и он не взорвался
4	Летом по утрам часто можно на листьях кустарников и на траве появляется роса. Объясните, почему появляется роса.	Потому что температура меняется, и она идет вниз
5	Почему сырое белье, развешенное на балконе, в теплую погоду сохнет быстрее, чем в холодную?	Потому что воздухе теплее и суше
6	Почему ключевая вода в колодцах всегда чище, чем в реках или прудах?	Потому что
7	Почему вода в глубоких колодцах и ключах всегда холодная?	Потому что там температура холоднее
8	Часто воду называют «вечной страницей». К.Д. Ушинский называет её «неутомимая путешественница». Объясните, почему воде	Потому что вода не может ни куда уйти. Она всегда где-то останется

## Шифр

5-0

5	2	4	6															
---	---	---	---	--	--	--	--	--	--	--	--	--	--	--	--	--	--	--

	даны такие названия?	
9	Почему вода в реках у берегов течет медленнее, чем в середине (стремнина реки)?	потому что есть сила трения между водой и берегами
10	М.Ю. Лермонтов в своем стихотворении «Тучи» написал: «Тучки небесные, вечные странники!..» Правильно ли поэт называет тучи вечными странниками?	Да потому что они (идут) плывут по небу
11	Почему во время ледохода лёд плывет по поверхности воды и не тонет?	<del>потому что в нем есть пузырьки</del> и лёд это вода
12	При постройке гидроэлектростанций реку перекрывают плотиной, поднимая уровень воды. Зачем это делают?	чтобы сделать её более продуктивной и надёжной
13	В чем сходство и в чем различие между туманом и облаком?	Оба из <sup>пара</sup> возов, туман опускается на землю, а облака нет
14	Почему нашу планету было бы правильно назвать планета Океан?	потому что на нашей планете больше океанов и рек чем суши

**ВСЕРОССИЙСКАЯ ОЛИМПИАДА ШКОЛЬНИКОВ ПО ГЕОГРАФИИ**  
**(школьный этап)**

**ТЕОРЕТИЧЕСКИЙ ТУР**

**5 класс**

*Уважаемый участник олимпиады!*

Вам предстоит выполнить теоретические задания. **Время выполнения заданий теоретического тура 45 минут.**

*Выполнение теоретических (письменных) заданий целесообразно организовать следующим образом:*

- не спеша, внимательно прочитайте задание и определите, наиболее верный и полный ответ;
- отвечая на теоретические вопросы и выполняя практические задания, обдумайте и сформулируйте конкретный ответ только на поставленный вопрос;
- если Вы отвечаете на задание, связанное с заполнением таблицы или схемы, не старайтесь детализировать информацию, вписывайте только те сведения или данные, которые указаны в вопросе;
- особое внимание обратите на задания, в выполнении которых требуется выразить Ваше мнение с учетом анализа ситуации или поставленной проблемы. Внимательно и вдумчиво определите смысл вопроса и логику ответа (последовательность и точность изложения). Отвечая на вопрос, предлагайте свой вариант решения проблемы, при этом ответ должен быть кратким, но содержать необходимую информацию;
- после выполнения всех предложенных заданий еще раз удостоверьтесь в правильности выбранных Вами ответов и решений.

*Предупреждаем Вас, что:*

- при оценке тестовых заданий, где необходимо определить один правильный ответ, 0 баллов выставляется за неверный ответ и в случае, если участником отмечены несколько ответов (в том числе правильный), или все ответы;
- при оценке тестовых заданий, где необходимо определить все правильные ответы, 0 баллов выставляется, если участником отмечены неверные ответы, большее количество ответов, чем предусмотрено в задании (в том числе правильные ответы) или все ответы.

Задание теоретического тура считается выполненным, если Вы вовремя сдаете его членам жюри.

**Максимальная оценка – 40 баллов**



052426

Всероссийская олимпиада школьников по географии  
школьный этап 2022-2023 учебный год  
5 класс

Теоретический тур

Задание №1. «Историческое»

XV-XVI вв. называют эпохой великих географических открытий. Самое выдающееся путешествие – это первое кругосветное плавание.

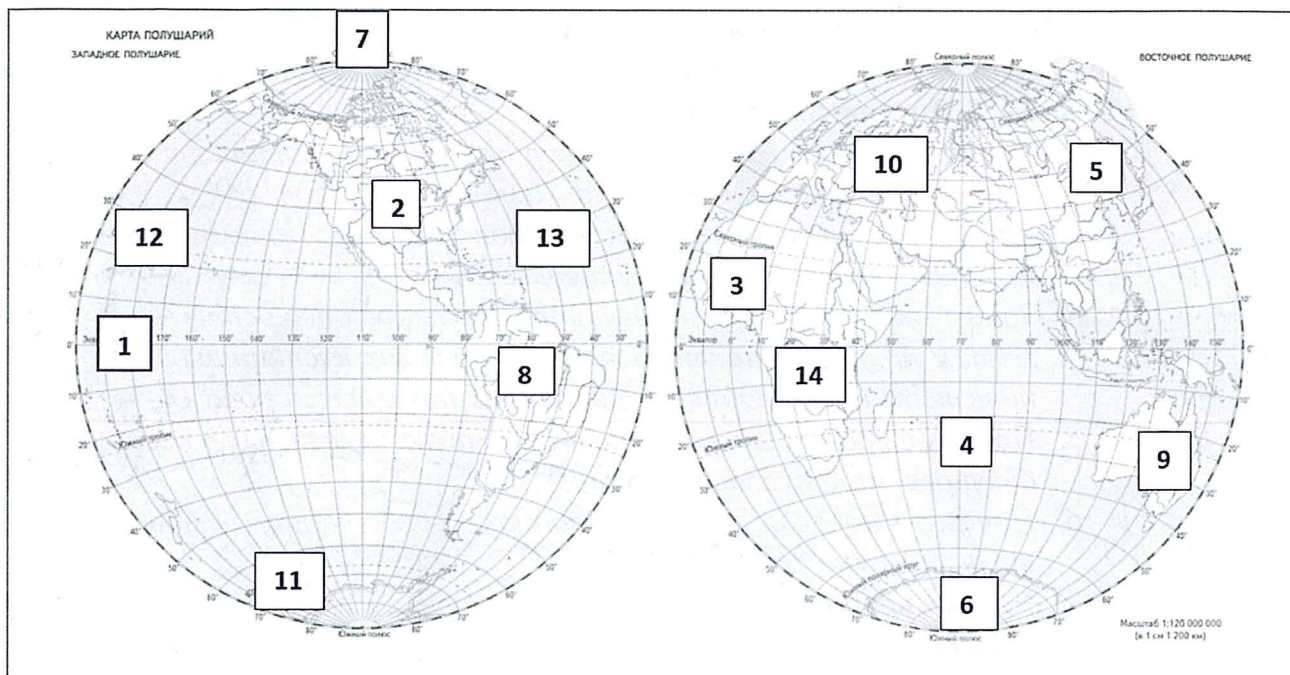


1. Назовите даты первого кругосветного путешествия. *1519-1522*
2. Кто был организатором этого уникального плавания? *Ф. Магелан*
3. Какому океану он дал название и почему именно такое? *Тихий океан*
4. Вспомните маршрут плавания и выберите объекты, которые не могли встретиться на пути у путешественников: *Южная Америка, Малайский архипелаг, Красное море, Австралия, Аппенинский полуостров, Тихий океан, остров Сахалин, остров Великобритания, острова Огненная Земля, Аравийский полуостров, Филиппинские острова?* —
5. Какие имена носили корабли этой морской экспедиции? *«Виндзор» и «Санто-Антонио»*
6. Какой корабль вернулся на родину? —
7. Кого из участников плавания испанский король Карл V удостоил после возвращения звания дворянина и собственного герба, где распорядился изобразить земной шар с надписью на латыни «Ты первым обогнул меня» (Primus circumdedisti me)? —
8. Кто и когда совершил кругосветное путешествие за 108 минут? —
9. На каком корабле это было совершено? —
10. Гражданином какой страны? —



052486

## Задание №2. «Картографическое»



Перед Вами карта полушарий. Каждая цифра не случайно расположена именно в данном месте, она обозначает элемент градусной сетки или географический объект.

Прочитайте вопросы и определитесь с выбором цифр и названий элементов градусной сетки и географических названий.

А) Столица РФ – город...	10
Б) Город - центр нашего края – город...	5
В) Где начинается отчет широт?	1
Г) Место – начало отсчета долгот?	11
Д) Место на земном шаре, имеющее только широту, какую?	7
Е) Самый жаркий материк	14
Ж) Самый сухой материк	9
З) Самый влажный материк	8
И) Самый холодный материк	6
К) Особая параллель, где солнце бывает в зените 22 июня	12
Л) Параллель, за которой в декабре, солнце не заходит за горизонт – полярный день	3
М) На каком материке располагается точка с координатами - 40°с.ш. и 100°з.д.	2
Н) Самый теплый океан носит название страны, которую омывает	4
О) Океан, названный в честь греческого мифического героя	13



052486

### Задание №3. «Водное»

«Вода всему голова!» - русская пословица указывает на важность этого вещества на нашей планете. Какие особенности воды определили ей такое место? Попробуем разобраться.

1. Человек моется водой сам, моет посуду, полы, стирает в ней белье. Какое свойство воды при этом использует человек? *Впитывающее*
2. Много рек течет со всех сторон в моря. Почему же море не переполняется и не заливает сушу? *Потому что вода испаряется*
3. Зачем в крышке чайника делают небольшое отверстие? *чтобы из него выходил пар.*
4. Летом по утрам часто можно на листьях кустарников и на траве появляется роса. Объясните, почему появляется роса. *из-за сдвига температуры*
5. Почему сырое белье, развешенное на балконе, в теплую погоду сохнет быстрее, чем в холодную? *потому что летом сухо и жарко, а зимой нет*
6. Почему ключевая вода в колодцах всегда чище, чем в реках или прудах? *потому что её доставают из под земли*
7. Почему вода в глубоких колодцах и ключах всегда холодная? *потому что под землей холоднее*
8. Часто воду называют «вечной страницей». К.Д. Ушинский называет её «неутомимая путешественница». Объясните, почему воде даны такие названия? *потому что вода движется по кругу и не может никуда уйти*
9. Почему вода в реках у берегов течет медленнее, чем в середине (стремнина реки)? *потому что есть сила трения*
10. М.Ю. Лермонтов в своем стихотворении «Тучи» написал: «Тучки небесные, вечные странники!..» Правильно ли поэт называет тучи вечными странниками? *да*
11. Почему во время ледохода лёд плывет по поверхности воды и не тонет? *потому что лёд это вода*
12. При постройке гидроэлектростанций реку перекрывают плотиной, что бы поднимая уровень воды. Зачем это делают? *чтобы можно было сделать*
13. В чем сходство и в чем различие между туманом и облаком? *они из пара.*
14. Почему нашу планету было бы правильно назвать планета Океан? *потому что на планете больше океанов чем суши*



**ВСЕРОССИЙСКАЯ ОЛИМПИАДА ШКОЛЬНИКОВ ПО ГЕОГРАФИИ**  
(школьный этап)

**ТЕСТОВЫЙ ТУР**  
**5 класс**

*Уважаемый участник олимпиады!*

Вам предстоит выполнить тестовые задания. **Время выполнения заданий теоретического тура - 30 минут.**

*Выполнение тестовых заданий целесообразно организовать следующим образом:*

- не спеша, внимательно прочитайте тестовое задание;
- определите, какой из предложенных вариантов ответа наиболее верный и полный;
- напишите букву, соответствующую выбранному Вами ответу;
- продолжайте, таким образом, работу до завершения выполнения тестовых заданий;
- после выполнения всех предложенных заданий еще раз удостоверьтесь в правильности ваших ответов;
- если потребуется корректировка выбранного Вами варианта ответа, то неправильный вариант ответа зачеркните крестиком, и рядом напишите новый.

*Предупреждаем Вас, что:*

- при оценке тестовых заданий, где необходимо определить один правильный ответ, 0 баллов выставляется за неверный ответ и в случае, если участником отмечены несколько ответов (в том числе правильный), или все ответы;
  - при оценке тестовых заданий, где необходимо определить все правильные ответы, 0 баллов выставляется, если участником отмечены неверные ответы, большее количество ответов, чем предусмотрено в задании (в том числе правильные ответы) или все ответы.
- Задание тестового тура считается выполненным, если Вы вовремя сдаете его членам жюри.

**Максимальная оценка – 15 баллов**

052486

Всероссийская олимпиада школьников по географии  
школьный этап 2022-2023 учебный год  
5 класс

Тестовый тур

1. Выберите ответ на вопрос: Какой из памятников Всемирного природного наследия находится в России?

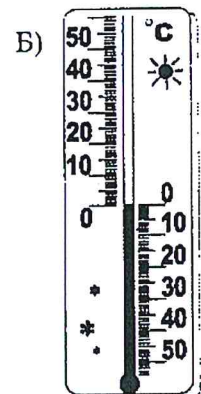
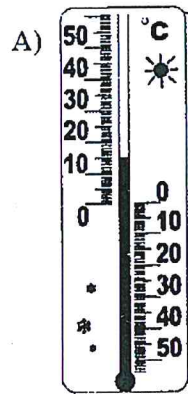
- А) водопад Виктория
- Б) Большой Барьерный риф
- В) Большой каньон
- Г) вулканы Камчатки

2. Выберите правильный ответ из предложенных вариантов. Территория Российской Федерации находится на материке:

- А) Африка
- Б) Евразия
- В) Северная Америка
- Г) Австралия

3. Соотнесите букву рисунка с цифрой. Вера живет в г. Архангельске, на севере нашей родины, а Люба живет в г. Сочи, на Черноморском побережье Кавказа. Показания какого термометра будут соответствовать температуре в этих городах в апреле месяце?

- 1) в Архангельске 5
- 2) в Сочи А



4. Выберите правильный ответ. Основной причиной, по которой птицы осенью улетают на юг является:

- А) уменьшение светового дня
- Б) недостаток пищи
- В) замерзание почвы
- Г) отсутствие листьев на деревьях

5. Соотнесите растение с природной зоной, для которого характерно это растение.

Природная зона	Растение
А) степь	1) дуб
Б) широколиственный лес	2) ковыль
В) тундра	3) лиственница
Г) тайга	4) карликовая береза

6. Выберите правильный ответ. О какой природной зоне и каком заповеднике идёт речь?

Эта природная зона представляет собой безлесную равнину, которая расположена южнее зоны арктических пустынь. Зима в ней долгая и суровая, а лето – короткое. Растительный и животный мир охраняется, здесь создан заповедник.

- А) тундра, заповедник «остров Врангеля»
- Б) тундра, Таймырский заповедник
- В) степь, Даурский заповедник
- Г) тундра, Сихотэ-Алинский заповедник

7. Соотнесите определение и термин, к которому оно относится.

А) приток    Б) исток    В) устье    Г) русло

Какой термин скрывается за четвертым определением?

- 1) Место, где река впадает в озеро, море или другую реку **А**
- 2) Река, впадающая в другую реку **Б**
- 3) Место, где река берёт своё начало **В**
- 4) Наиболее углублённая часть речной долины, по которой протекает речной поток **Г**

8. Выберите правильные ответы. Синяя стрелка компаса показывает направление на:

А) восток    Б) юг     В) север    Г) запад

9. Выберите правильные ответы. Какие реки не протекают в Азии?

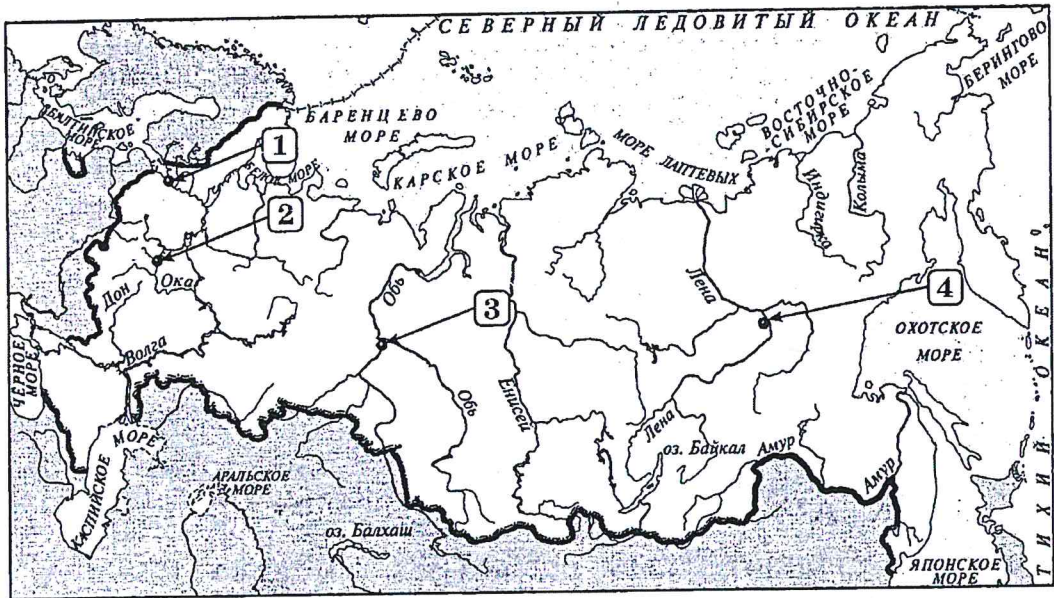
А) Амур    Б) Енисей    В) Волга     Д) Дон

10. Определите: Какая цифра на карте указывает столицу нашей страны? Какие города обозначают оставшиеся цифры?

- 2. Москва
- 1. Санкт-Петербург
- 3. Ханты-Мансийск
- 4. Якутск



052486



Шифр

5	-	0	5	4	7	2	1												
---	---	---	---	---	---	---	---	--	--	--	--	--	--	--	--	--	--	--	--

Всероссийская олимпиада школьников по географии  
школьный этап 2022-2023 учебный год  
5 класс

ЛИСТ ОТВЕТОВ

Участник олимпиады	
Фамилия	Литвинова
Имя	Елизавета
Отчество	Вячеславовна

Баллы

№ задания	1	2	3	Тесты
Количество баллов	1,5	10	5	12
Подпись члена жюри				
Сумма баллов и подпись председателя	28,5 Л			





Шифр

5	-	0	5	4	7	2	1											
---	---	---	---	---	---	---	---	--	--	--	--	--	--	--	--	--	--	--

**Всероссийская олимпиада школьников по географии  
школьный этап 2022-2023 учебный год**

**5 класс**

**Бланк ответов учащегося для заданий тестового тура**

№ вопроса	Правильный ответ (элементы ответа)
1.	<del>В</del> Г 1
2.	Б 1
3.	А-2, Б-1 1
4.	Б 1
5.	А-2 Б-1 В-4 2 Г-3
6.	Г 0
7.	1-А- 4-Г 0,5 2-Б- 3-В-
8.	В 1
9.	Г 0,5
10.	2- Москва 1- Санкт-Петербург 3. Ханты-Мансийск 4 4. Якутск

Шифр

5	-	0	5	4	7	2	1											
---	---	---	---	---	---	---	---	--	--	--	--	--	--	--	--	--	--	--

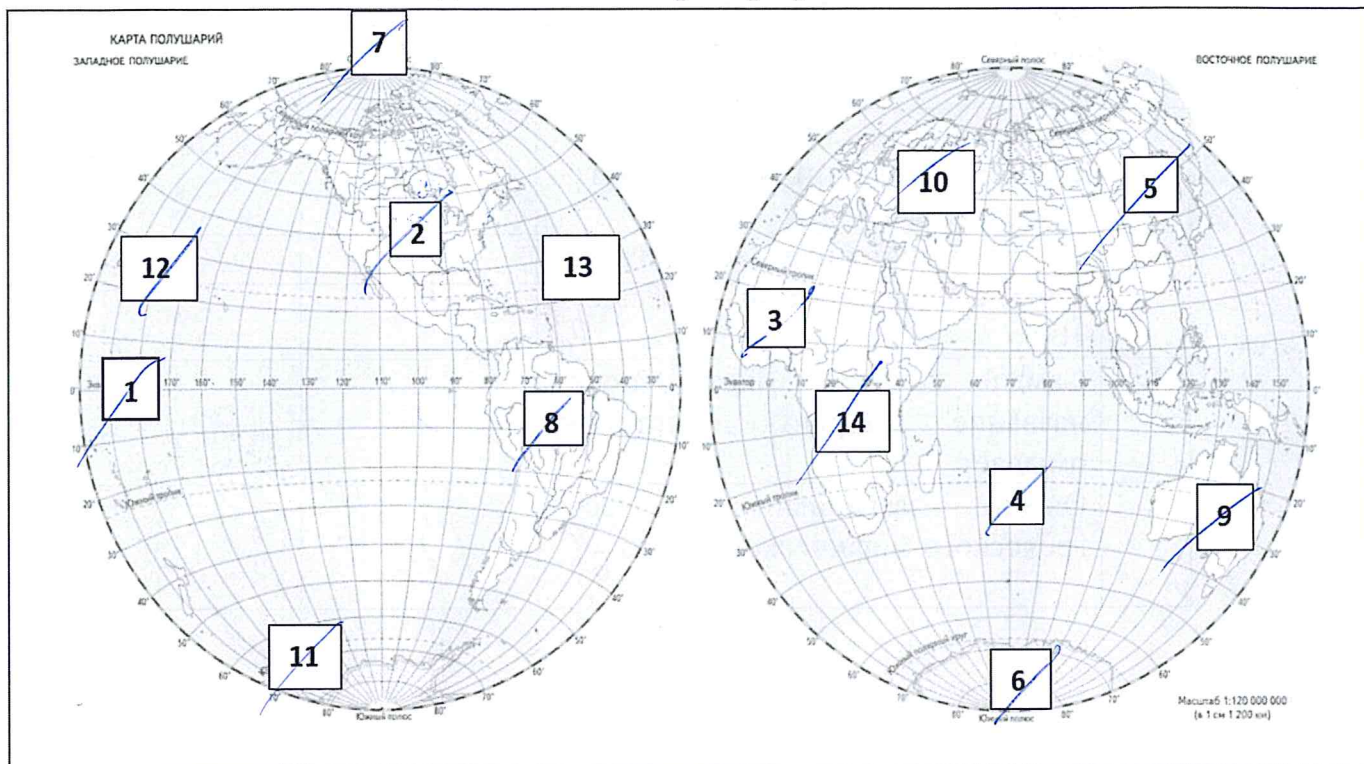
**Теоретический тур**  
**Задание № 1 «Историческое»**

№	Вопрос	Ответ
1.	Назовите даты первого кругосветного путешествия. <span style="color: red;">0,5</span>	1519
2.	Кто был организатором этого уникального плавания? <span style="color: red;">0,5</span>	Ф. Магеллан
3.	Какому океану он дал название и почему именно такое? <span style="color: red;">0,5</span>	Тихий океан
4.	Выберите объекты, которые не могли встретиться на пути у путешественников:	—
5.	Какие имена носили корабли этой морской экспедиции?	—
6.	Какой корабль вернулся на родину?	—
7.	Кто в результате этого плавания получил титул дворянина и герб ?	—
8.	Кто и когда совершил кругосветное путешествие за 108 минут?	—
9.	На каком корабле это было совершено?	—
10.	Гражданином какой страны?	—

Шифр

5 - 0 5 4 7 2 1

Задание № 2 «Картографическое»



№	Вопрос	Ответ цифра на карте	— на	Ответ географический объект	—
А	Столица РФ – город...	10		Москва	1
Б	Город - центр нашего края – город...	5		Хабаровск	1
В	Где начинается отчет широт?	1		нулевой меридиан	0,5
Г	Место – начало отсчета долгот?	11		Гринвич	0,5
Д	Место на земном шаре, имеющее только широту, какую?	7		Северный полюс	1
Е	Самый жаркий материк	14		Африка	1
Ж	Самый сухой материк	9		Австралия	1

## Шифр

5	-	0	5	4	7	2	1											
---	---	---	---	---	---	---	---	--	--	--	--	--	--	--	--	--	--	--

З	Самый влажный материк	1	8	Южная Америка
И	Самый холодный материк	1	<del>4</del> 6	Антарктида
К	Особая параллель, где солнце бывает в зените 22 июня	0,5	12	—
Л	Параллель, за которой в декабре, солнце не заходит за горизонт — полярный день		3	—
М	На каком материке располагается точка с координатами - 40°с.ш. и 100°з.д.	0,5	2	—
Н	Самый теплый океан носит название страны, которую омывает	0,5	4	—
О	Океан, названный в честь греческого мифического героя	0,5	13	—



Шифр

5	-	0	5	4	7	2	1											
---	---	---	---	---	---	---	---	--	--	--	--	--	--	--	--	--	--	--

## Задание № 3 «Водное»

№	Вопрос	Ответ
1.	Человек моется водой сам, моет посуду, полы, стирает в ней белье. Какое свойство воды при этом использует человек?	—
2	Много рек течет со всех сторон в моря. Почему же море не переполняется и не заливают сушу?	Потому, что существуют приливы и отливы
3	Зачем в крышке чайника делают небольшое отверстие?	для того чтобы пар уходил
4	Летом по утрам часто можно на листьях кустарников и на траве появляется роса. Объясните, почему появляется роса.	потому что влажный воздух испаряется, и остаются мелкие капли
5	Почему сырое белье, развешенное на балконе, в теплую погоду сохнет быстрее, чем в холодную?	потому что солнце за счет того, что оно очень жаркое быстрее сохнет белье.
6	Почему ключевая вода в колодцах всегда чище, чем в реках или прудах?	Потому что туда люди не бросают мусор
7	Почему вода в глубоких колодцах и ключах всегда холодная?	потому что она ближе к пеще
8	Часто воду называют «вечной страницей». К.Д. Ушинский называет её «неутомимая путешественница». Объясните, почему воде	потому что вода всегда течёт куда-то.

Шифр

5	-	0	5	4	7	2	1											
---	---	---	---	---	---	---	---	--	--	--	--	--	--	--	--	--	--	--

	даны такие названия?	
9	Почему вода в реках у берегов течет медленнее, чем в середине (стремнина реки)?	потому что есть сила трения между водой и берегами
10	М.Ю. Лермонтов в своем стихотворении «Тучи» написал: «Тучки небесные, вечные странники!..» Правильно ли поэт называет тучи вечными странниками?	<del>то</del> да потому что тучи всегда идут (движутся) по небу
11	Почему во время ледохода лёд плывет по поверхности воды и не тонет?	потому что лёд это вода заморозенная.
12	При постройке гидроэлектростанций реку перекрывают плотиной, поднимая уровень воды. Зачем это делают?	чтобы вода не попала на электричество.
13	В чем сходство и в чем различие между туманом и облаком?	облако выше как туман, туман стоит, а облака движатся.
14	Почему нашу планету было бы правильно назвать планета Океан?	потому что у нас на планете очень много воды

**ВСЕРОССИЙСКАЯ ОЛИМПИАДА ШКОЛЬНИКОВ ПО ГЕОГРАФИИ**  
**(школьный этап)**

**ТЕОРЕТИЧЕСКИЙ ТУР**

**5 класс**

*Уважаемый участник олимпиады!*

Вам предстоит выполнить теоретические задания. **Время выполнения заданий теоретического тура 45 минут.**

*Выполнение теоретических (письменных) заданий целесообразно организовать следующим образом:*

- не спеша, внимательно прочитайте задание и определите, наиболее верный и полный ответ;
- отвечая на теоретические вопросы и выполняя практические задания, обдумайте и сформулируйте конкретный ответ только на поставленный вопрос;
- если Вы отвечаете на задание, связанное с заполнением таблицы или схемы, не старайтесь детализировать информацию, вписывайте только те сведения или данные, которые указаны в вопросе;
- особое внимание обратите на задания, в выполнении которых требуется выразить Ваше мнение с учетом анализа ситуации или поставленной проблемы. Внимательно и вдумчиво определите смысл вопроса и логику ответа (последовательность и точность изложения). Отвечая на вопрос, предлагайте свой вариант решения проблемы, при этом ответ должен быть кратким, но содержать необходимую информацию;
- после выполнения всех предложенных заданий еще раз удостоверьтесь в правильности выбранных Вами ответов и решений.

*Предупреждаем Вас, что:*

- при оценке тестовых заданий, где необходимо определить один правильный ответ, 0 баллов выставляется за неверный ответ и в случае, если участником отмечены несколько ответов (в том числе правильный), или все ответы;
- при оценке тестовых заданий, где необходимо определить все правильные ответы, 0 баллов выставляется, если участником отмечены неверные ответы, большее количество ответов, чем предусмотрено в задании (в том числе правильные ответы) или все ответы.

Задание теоретического тура считается выполненным, если Вы вовремя сдаете его членам жюри.

**Максимальная оценка – 40 баллов**



**Всероссийская олимпиада школьников по географии  
школьный этап 2022-2023 учебный год  
5 класс**

**Теоретический тур**

**Задание №1. «Историческое»**

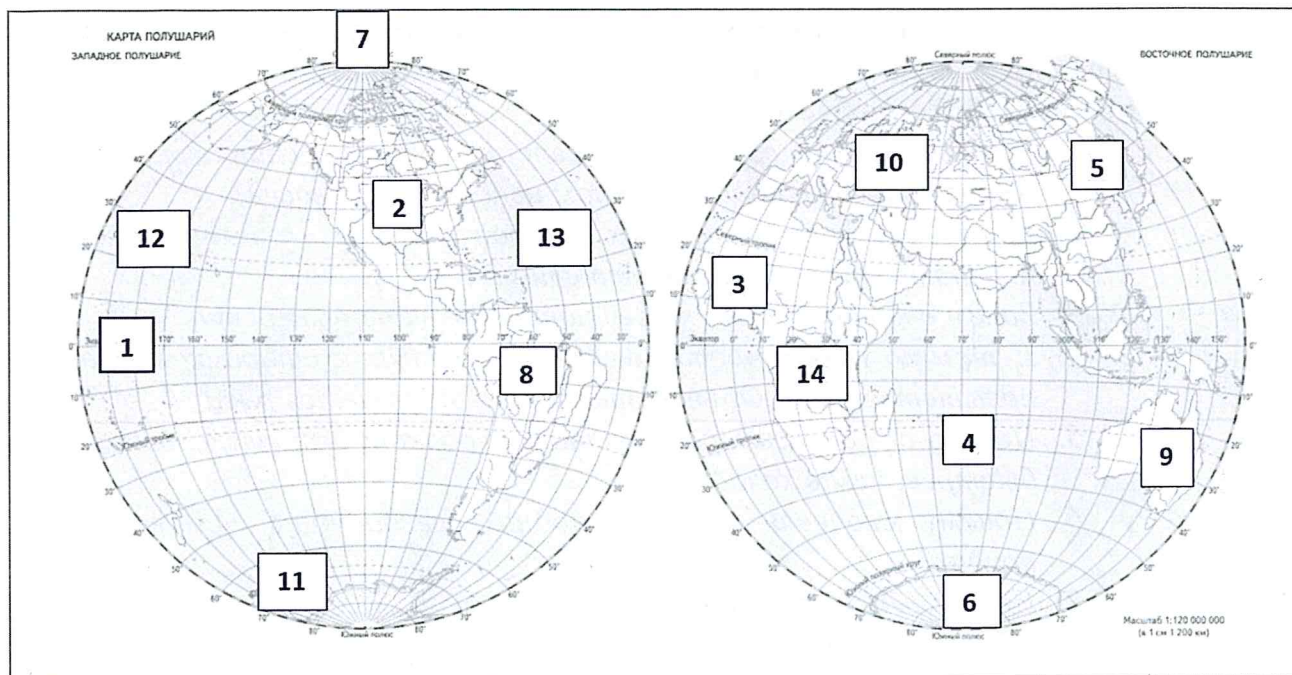
XV-XVI вв. называют эпохой великих географических открытий. Самое выдающееся путешествие – это первое кругосветное плавание.



1. Назовите даты первого кругосветного путешествия.
2. Кто был организатором этого уникального плавания?
3. Какому океану он дал название и почему именно такое?
4. Вспомните маршрут плавания и выберите объекты, которые не могли встретиться на пути у путешественников: *Южная Америка, Малайский архипелаг, Красное море, Австралия, Аппенинский полуостров, Тихий океан, остров Сахалин, остров Великобритания, острова Огненная Земля, Аравийский полуостров, Филиппинские острова?*
5. Какие имена носили корабли этой морской экспедиции?
6. Какой корабль вернулся на родину?
7. Кого из участников плавания испанский король Карл V удостоил после возвращения звания дворянина и собственного герба, где распорядился изобразить земной шар с надписью на латыни «Ты первым обогнул меня» (Primus circumdedisti me)?
8. Кто и когда совершил кругосветное путешествие за 108 минут?
9. На каком корабле это было совершено?
10. Гражданином какой страны?



## Задание №2. «Картографическое»



Перед Вами карта полушарий. Каждая цифра не случайно расположена именно в данном месте, она обозначает элемент градусной сетки или географический объект.

Прочитайте вопросы и определитесь с выбором цифр и названий элементов градусной сетки и географических названий.

<i>А) Столица РФ – город...</i>
<i>Б) Город - центр нашего края – город...</i>
<i>В) Где начинается отчет широт?</i>
<i>Г) Место – начало отсчета долгот?</i>
<i>Д) Место на земном шаре, имеющее только широту, какую?</i>
<i>Е) Самый жаркий материк</i>
<i>Ж) Самый сухой материк</i>
<i>З) Самый влажный материк</i>
<i>И) Самый холодный материк</i>
<i>К) Особая параллель, где солнце бывает в зените 22 июня</i>
<i>Л) Параллель, за которой в декабре, солнце не заходит за горизонт – полярный день</i>
<i>М) На каком материке располагается точка с координатами - 40°с.ш. и 100°з.д.</i>
<i>Н) Самый теплый океан носит название страны, которую омывает</i>
<i>О) Океан, названный в честь греческого мифического героя</i>



### Задание №3. «Водное»

**«Вода всему голова!»** - русская пословица указывает на важность этого вещества на нашей планете. Какие особенности воды определили ей такое место? Попробуем разобраться.

1. Человек моется водой сам, моет посуду, полы, стирает в ней белье. Какое свойство воды при этом использует человек?
2. Много рек течет со всех сторон в море. Почему же море не переполняется и не заливают сушу?
3. Зачем в крышке чайника делают небольшое отверстие?
4. Летом по утрам часто можно на листьях кустарников и на траве появляется роса. Объясните, почему появляется роса.
5. Почему сырое белье, развешенное на балконе, в теплую погоду сохнет быстрее, чем в холодную?
6. Почему ключевая вода в колодцах всегда чище, чем в реках или прудах?
7. Почему вода в глубоких колодцах и ключах всегда холодная?
8. Часто воду называют «вечной страницей». К.Д. Ушинский называет её «неутомимая путешественница». Объясните, почему воде даны такие названия?
9. Почему вода в реках у берегов течет медленнее, чем в середине (стремнина реки)?
10. М.Ю. Лермонтов в своем стихотворении «Тучи» написал: «Тучки небесные, вечные странники!..» Правильно ли поэт называет тучи вечными странниками?
11. Почему во время ледохода лёд плывет по поверхности воды и не тонет?
12. При постройке гидроэлектростанций реку перекрывают плотиной, поднимая уровень воды. Зачем это делают?
13. В чем сходство и в чем различие между туманом и облаком?
14. Почему нашу планету было бы правильно назвать планета Океан?



**ВСЕРОССИЙСКАЯ ОЛИМПИАДА ШКОЛЬНИКОВ ПО ГЕОГРАФИИ**  
**(школьный этап)**

**ТЕСТОВЫЙ ТУР**  
**5 класс**

*Уважаемый участник олимпиады!*

Вам предстоит выполнить тестовые задания. **Время выполнения заданий теоретического тура - 30 минут.**

*Выполнение тестовых заданий целесообразно организовать следующим образом:*

- не спеша, внимательно прочитайте тестовое задание;
- определите, какой из предложенных вариантов ответа наиболее верный и полный;
- напишите букву, соответствующую выбранному Вами ответу;
- продолжайте, таким образом, работу до завершения выполнения тестовых заданий;
- после выполнения всех предложенных заданий еще раз удостоверьтесь в правильности ваших ответов;
- если потребуется корректировка выбранного Вами варианта ответа, то неправильный вариант ответа зачеркните крестиком, и рядом напишите новый.

*Предупреждаем Вас, что:*

- при оценке тестовых заданий, где необходимо определить один правильный ответ, 0 баллов выставляется за неверный ответ и в случае, если участником отмечены несколько ответов (в том числе правильный), или все ответы;
  - при оценке тестовых заданий, где необходимо определить все правильные ответы, 0 баллов выставляется, если участником отмечены неверные ответы, большее количество ответов, чем предусмотрено в задании (в том числе правильные ответы) или все ответы.
- Задание тестового тура считается выполненным, если Вы вовремя сдаете его членам жюри.

**Максимальная оценка – 15 баллов**

**Всероссийская олимпиада школьников по географии**  
**школьный этап 2022-2023 учебный год**  
**5 класс**

**Тестовый тур**

**1. Выберите ответ на вопрос:** Какой из памятников Всемирного природного наследия находится в России?

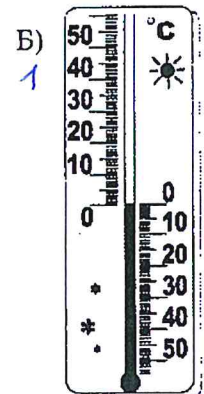

- А) водопад Виктория
- Б) Большой Барьерный риф
- В) Большой каньон
- Г) вулканы Камчатки

**2. Выберите правильный ответ из предложенных вариантов.** Территория Российской Федерации находится на материке:

- А) Африка
- Б) Евразия
- В) Северная Америка
- Г) Австралия

**3. Соотнесите букву рисунка с цифрой.** Вера живет в г. Архангельске, на севере нашей родины, а Люба живет в г. Сочи, на Черноморском побережье Кавказа. Показания какого термометра будут соответствовать температуре в этих городах в апреле месяце?

- 1) в Архангельске А
- 2) в Сочи Б



**4. Выберите правильный ответ.** Основной причиной, по которой птицы осенью улетают на юг является:

- А) уменьшение светового дня
- Б) недостаток пищи
- В) замерзание почвы
- Г) отсутствие листьев на деревьях

**5. Соотнесите растение с природной зоной, для которого характерно это растение.**

- | Природная зона          | Растение             |
|-------------------------|----------------------|
| А) степь                | 1) дуб               |
| Б) широколиственный лес | 2) ковыль            |
| В) тундра               | 3) лиственница       |
| Г) тайга                | 4) карликовая береза |

6. Выберите правильный ответ. О какой природной зоне и каком заповеднике идёт речь?

Эта природная зона представляет собой безлесную равнину, которая расположена южнее зоны арктических пустынь. Зима в ней долгая и суровая, а лето – короткое. Растительный и животный мир охраняется, здесь создан заповедник.

- А) тундра, заповедник «остров Врангеля»
- Б) тундра, Таймырский заповедник
- В) степь, Даурский заповедник
- Г) тундра, Сихотэ-Алинский заповедник

7. Соотнесите определение и термин, к которому оно относится.

А) приток    Б) исток    В) устье    Г) русло

Какой термин скрывается за четвертым определением? *А*

- 1) Место, где река впадает в озеро, море или другую реку *А*
- 2) Река, впадающая в другую реку *Б В*
- 3) Место, где река берёт своё начало *Б В*
- 4) Наиболее углублённая часть речной долины, по которой протекает речной поток *Г*

8. Выберите правильные ответы. Синяя стрелка компаса показывает направление на:

А) восток    Б) юг     В) север    Г) запад

9. Выберите правильные ответы. Какие реки не протекают в Азии?

А) Амур    Б) Енисей    В) Волга     Г) Дон

10. Определите: Какая цифра на карте указывает столицу нашей страны?

Какие города обозначают оставшиеся цифры?

- 2 - Москва
- 1 - Санкт Петербург
- 3 - Казань - Магнитск
- 4 - Якутск.



