

Шифр


8	-	0	8	8	7	2	8												
---	---	---	---	---	---	---	---	--	--	--	--	--	--	--	--	--	--	--	--

Всероссийская олимпиада школьников по географии
школьный этап 2022-2023 учебный год
8 класс

ЛИСТ ОТВЕТОВ

Участник олимпиады	
Фамилия	Келай
Имя	Александра
Отчество	Андреевна

Баллы					
№ задания	1	2	3	4	Тесты
Количество баллов	5	10	3,5	2	16.
Подпись члена жюри					
Сумма баллов и подпись председателя	36,5				



Шифр

8	-	0	8	8	7	2	8												
---	---	---	---	---	---	---	---	--	--	--	--	--	--	--	--	--	--	--	--

Теоретический тур






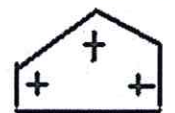
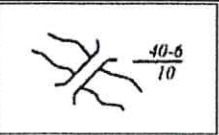
Задание № 1. «Историческое»

№	Вопрос	Ответ
1.	Кто и когда организовал уникальную экспедицию?	Фернан Магеллан
2.	Какое значение имела эта экспедиция в развитии географических знаний о планете?	Изучение территории Земли кругом (шаровидная)
3.	Какие имена носили корабли этой морской экспедиции?	Виктории
4.	Что написано на гербе, который испанский король даровал капитану корабля, вернувшегося на родину? Назовите его имя и корабль.	
5.	Среди мореплавателей есть такие, кто повторил такое путешествие, а один даже трижды. В таблице представлены даты их путешествий и названия кораблем. Назовите их имена и страны.	2. Россия 3. 4. Россия 5. Россия 6. Россия

Шифр

8 - 0 8 8 4 2 8


Задание № 2. «Топографическое»

Условный знак на топографической карте	Название условного знака	Номер объекта на Рисунке (если обозначен)	Расшифровка текстовых подписей условных знаков
	Хвойный лес		
	Двухпутная железная дорога		
	Вырубка		
	Церковь	2 1	
	Лиственный лес	2 2	25 - высота дерева в м 0,30 - ширина дерева в м
	Ширина реки река	4 2	45 - ширина реки в м 1,8 - ширина реки в м
	путь	3 1	
	Кладбище		
	Мост	5 2	40 - длина моста, м 6 - ширина моста, м 10 - высота над водой, м

в ширину

Шифр

8	-	0	8	8	7	2	8											
---	---	---	---	---	---	---	---	--	--	--	--	--	--	--	--	--	--	--

	Отдельно стоящее дерево	1,5	
---	-------------------------	-----	--

Задание № 3. «Стихийные бедствия»

№	Вопрос	Ответ
1.	Название страны 1	Япония
	Название страны 2	Филиппинские о-ва
2.	Названия морей омывающих 1 страну	Японское море, Восточно-китайское море
	Названия морей омывающих 2 страну	Южно-китайское море
3.	Стихийные бедствия	Землетрясение, извержение вулканов.
4.	Причины стихийных бедствий	Стык литосферных плит.

Шифр

8	-	0	8	8	7	2	8											
---	---	---	---	---	---	---	---	--	--	--	--	--	--	--	--	--	--	--

Задание № 4. «Краеведческое»

Вопрос	Ответ
1. Запишите имя исследователя, о котором рассказывается в тексте?	В.К. Арсеньев 1
2. Какую горную систему на территории Хабаровского края изучал путешественник?	Становой хребет Сихотэ - Алия 1
3. Этнограф всегда сопровождал проводник и друг. Назовите его.	
4. В экспедициях очень трудно хранить провизию. Путешественник, о котором рассказывается в тексте, придумал способ сохранить в экспедициях продукты. Поэтому, чтобы сохранить муку в тайге от сырости нужно мешок с мукой <hr/> <i>(закончите предложение)</i>	

ВСЕРОССИЙСКАЯ ОЛИМПИАДА ШКОЛЬНИКОВ ПО ГЕОГРАФИИ
(школьный этап)

ТЕОРЕТИЧЕСКИЙ ТУР

8 класс

Уважаемый участник олимпиады!

Вам предстоит выполнить теоретические задания. **Время выполнения заданий теоретического тура 60 минут.**

Выполнение теоретических (письменных) заданий целесообразно организовать следующим образом:

- не спеша, внимательно прочитайте задание и определите, наиболее верный и полный ответ;
- отвечая на теоретические вопросы и выполняя практические задания, обдумайте и сформулируйте конкретный ответ только на поставленный вопрос;
- если Вы отвечаете на задание, связанное с заполнением таблицы или схемы, не старайтесь детализировать информацию, вписывайте только те сведения или данные, которые указаны в вопросе;
- особое внимание обратите на задания, в выполнении которых требуется выразить Ваше мнение с учетом анализа ситуации или поставленной проблемы. Внимательно и вдумчиво определите смысл вопроса и логику ответа (последовательность и точность изложения). Отвечая на вопрос, предлагайте свой вариант решения проблемы, при этом ответ должен быть кратким, но содержать необходимую информацию;
- после выполнения всех предложенных заданий еще раз удостоверьтесь в правильности выбранных Вами ответов и решений.

Предупреждаем Вас, что:

- при оценке тестовых заданий, где необходимо определить один правильный ответ, 0 баллов выставляется за неверный ответ и в случае, если участником отмечены несколько ответов (в том числе правильный), или все ответы;
- при оценке тестовых заданий, где необходимо определить все правильные ответы, 0 баллов выставляется, если участником отмечены неверные ответы, большее количество ответов, чем предусмотрено в задании (в том числе правильные ответы) или все ответы.

Задание теоретического тура считается выполненным, если Вы вовремя сдаете его членам жюри.

Максимальная оценка – 39,5 баллов

Всероссийская олимпиада школьников по географии
школьный этап 2022-2023 учебный год
8 класс

Теоретический тур

1 задание «Историческое»

В этом году отмечается полувековой юбилей окончания одной из самых выдающихся экспедиций на планете.

1. Кто и когда организовал уникальную экспедицию?
2. Какое значение имела эта экспедиция в развитии географических знаний о планете?
3. Какие имена носили корабли этой морской экспедиции?
4. Что написано на гербе, который испанский король даровал капитану корабля, вернувшегося на родину? Назовите его имя и корабль.
5. Среди мореплавателей есть такие, кто повторил такое путешествие, а один даже трижды. В таблице представлены даты их путешествий и названия кораблем. Назовите их имена и страны.




Время путешествия	Название корабля	Имя Руководителя экспедиции
1519-1522	Виктория	1
1577—1580	Золотая Лань	2
1768-1771	Индевр	3
1772-1775	Резольюшен, Эдвенчер	3
1776-1780	Резольюшен, Дисковери	3
1803—1806	Нева, Надежда	4
1819 – 1821	Восток, Мирный	5
12 апреля 1961	Восток	6

2 задание «Топографическое»

В последние годы системы спутниковой навигации (GPS) стоят почти в каждом автомобиле и уже мало кто отваживается поехать по незнакомому маршруту без такого устройства. Но, навигатор барахлит, а вам необходимо добраться из пункта А в пункт Б и не заблудиться? Совсем не обязательно признавать поражение и обращаться за помощью. Достаньте из бардачка

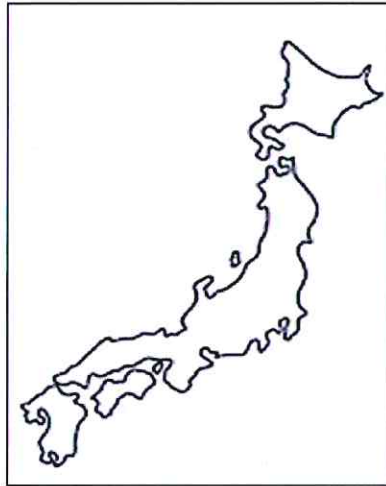
старую добрую карту! Отправляетесь ли в пеший поход в горы или намереваетесь пересечь всю страну на своем автомобиле, умение работать с картой — весьма практичный и полезный навык для каждого. Вопреки общепринятому мнению, в этом нет ничего сложного. Разберитесь в ключевых обозначениях вроде масштаба, широты, долготы и топографических линий, чтобы легко определять по карте любой маршрут. Рассмотрите фотографию и выполните задание.

Задание: соотнесите объект на снимке с условными знаками топографической карты; название условного знака; атрибутивная информация условного знака (расшифровка текстовых подписей условных знаков). Заполните таблицу

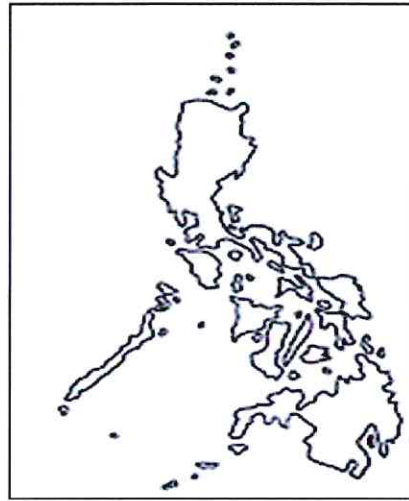


Задание №3. “Стихийные бедствия”

Перед вами контуры двух государств, расположенных в Тихом океане.



1.



2.

- 1) Определите название этих стран.
- 2) Назовите моря, омывающие побережья этих стран.
- 3) Каким стихийным бедствиям подвержены территории этих стран?
- 4) Каковы причины указанных вами стихийных бедствий?

Задание № 4. «Историческая география»

Указом Президента Российской Федерации от 01.11.2021 № 620 2022 год объявлен годом празднования 150-летия со дня рождения великого путешественника, писателя и исследователя ...



1. *Запишите имя натуралиста, о котором говорится в Указе президента РФ?*
2. *Какую горную систему на территории Хабаровского края изучал путешественник?*
3. *В качестве кого совершил первые свои экспедиции по югу Дальнего Востока?*
4. *Кто был кумиром путешественника, очерки которого были первыми настольными книгами об Уссурийском крае?*
5. *В экспедициях очень трудно хранить провизию.*



Путешественник, о котором рассказывается в тексте, придумал способ сохранить в экспедициях продукты. Поэтому, чтобы сохранить муку в тайге от сырости нужно мешок с мукой необходимо ...

ВСЕРОССИЙСКАЯ ОЛИМПИАДА ШКОЛЬНИКОВ ПО ГЕОГРАФИИ
(школьный этап)

ТЕСТОВЫЙ ТУР
8 класс

Уважаемый участник олимпиады!

Вам предстоит выполнить тестовые задания. **Время выполнения заданий теоретического тура - 30 минут.**

Выполнение тестовых заданий целесообразно организовать следующим образом:

- не спеша, внимательно прочитайте тестовое задание;
- определите, какой из предложенных вариантов ответа наиболее верный и полный;
- напишите букву, соответствующую выбранному Вами ответу;
- продолжайте, таким образом, работу до завершения выполнения тестовых заданий;
- после выполнения всех предложенных заданий еще раз удостоверьтесь в правильности ваших ответов;
- если потребуется корректировка выбранного Вами варианта ответа, то неправильный вариант ответа зачеркните крестиком, и рядом напишите новый.

Предупреждаем Вас, что:

- при оценке тестовых заданий, где необходимо определить один правильный ответ, 0 баллов выставляется за неверный ответ и в случае, если участником отмечены несколько ответов (в том числе правильный), или все ответы;
 - при оценке тестовых заданий, где необходимо определить все правильные ответы, 0 баллов выставляется, если участником отмечены неверные ответы, большее количество ответов, чем предусмотрено в задании (в том числе правильные ответы) или все ответы.
- Задание тестового тура считается выполненным, если Вы вовремя сдаете его членам жюри.

Максимальная оценка – 20,5 баллов

7. Заливом не является:

- А) эстуарий Б) дельта В) лиман Г) фьорд Д) бухта

8. Остров с наибольшей численностью населения:

- А) Лусон Б) Мадагаскар В) Новая Гвинея Г) Хонсю Д) Ява

9. Термин, не имеющий отношение к Южной Америке:

- А) вади Б) кампос В) поророка Г) пуна Д) сельва

10. Установите соответствия: «пустыня – страна, на территории которой она частично или полностью расположена».

- | | |
|------------------------|-----------------------------|
| 1) Австралия Б | А) Атакама |
| 2) Пакистан А | Б) Большая пустыня Виктория |
| 3) Саудовская Аравия Г | В) Каракумы |
| 4) Туркмения В | Г) Руб-эль-Хали |
| 5) Чили А | Д) Тар |

11. Установите соответствия: «река – её крупнейший по длине приток».

- 1) Амур Д 2) Енисей В 3) Конго Г 4) Муррей А 5) Обь Б
- А) Дарлинг Б) Иртыш В) Нижняя Тунгуска Г) Убанги Д) Уссури

12. Установите соответствие названия термина и его определения:

1. Заповедник
 2. Природная среда
 3. Искусственная (техногенная среда)
 4. Окружающая среда
- 3 а) совокупность элементов окружающей среды, созданных человеком из природных веществ и не имеющих аналогов в дикой природе (здания, сооружения и др.);
- 4 б) среда обитания и деятельности человека, окружающий человека природный и созданный им материальный мир;
- 2 в) природная составляющая часть среды обитания и производственной деятельности человечества (атмосферный воздух, поверхностные и подземные воды, почвы, недра);
- 1 г) природная территория, которая полностью исключается из хозяйственного использования для охраны и изучения природы в целом.

13. Подберите соответствующее определение понятиям:

1. «Река», 2. «Речная система», 3. «Бассейн реки». 4. «Устье»
- 1 а) Территория, с которой поверхностные и подземные воды стекают в главную реку.
- 3 б) Водный поток, который течёт в выработанном им русле.
- 4 в) Главная река с притоками.
- 1 г) Место, где река впадает в другую реку, озеро или море.

14. Хабаровский край граничит с:

- А) Монголией Б) США В) Китаем Г) КНДР Д) Японией

15. Коралловое происхождение имеют острова:

- А) Мальдивские
Б) Кергелен
В) Гавайские
Г) Азорские
Д) Маршалловы

Шифр

8	-	0	8	1	9	0	1												
---	---	---	---	---	---	---	---	--	--	--	--	--	--	--	--	--	--	--	--

Всероссийская олимпиада школьников по географии
школьный этап 2022-2023 учебный год
8 класс

ЛИСТ ОТВЕТОВ

Участник олимпиады	
Фамилия	Тринко
Имя	Карина
Отчество	Евгеньевна

Баллы

№ задания	1	2	3	4	Тесты
Количество баллов	4,5	5	4	3	19
Подпись члена жюри					
Сумма баллов и подпись председателя	25,5				

Шифр

8	-	0	81	9	0	1												
---	---	---	----	---	---	---	--	--	--	--	--	--	--	--	--	--	--	--

**Всероссийская олимпиада школьников по географии
школьный этап 2022-2023 учебный год**

8 класс

Бланк ответов учащегося для заданий тестового тура

№ вопроса	Правильный ответ (элементы ответа)
1.	В 1
2.	Б 1
3.	Г 1
4.	Б 1
5.	Г 1
6.	ВГГ 2
7.	Б 1
8.	Б
9.	А 1
10.	1-Б; 2-А; 3-Г; 4-В; 5-А 2,5
11.	1-А; 2-Б; 3-Г; 4-А; 5-Б 2,5
12.	3-а; 4-б; 2-б; 1-з 2
13.	3-а; 1-б; 2-б; 4-з 2
14.	Б 1
15.	А; А 1

Шифр

8	-	08	19	01															
---	---	----	----	----	--	--	--	--	--	--	--	--	--	--	--	--	--	--	--

Теоретический тур





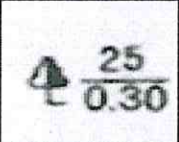
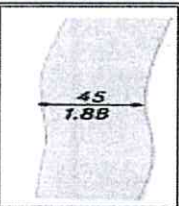

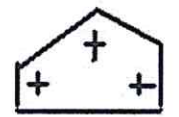
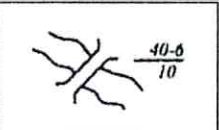
Задание № 1. «Историческое»

№	Вопрос	Ответ
1.	Кто и когда организовал уникальную экспедицию?	Фернан Магеллан 1519 г.
2.	Какое значение имела эта экспедиция в развитии географических знаний о планете?	Доказано, что Земля круглая
3.	Какие имена носили корабли этой морской экспедиции?	Викторисо Сантьяго Сан-Антонио, Тринидад, Консейсьон
4.	Что написано на гербе, который испанский король даровал капитану корабля, вернувшегося на родину? Назовите его имя и корабль.	
5.	Среди мореплавателей есть такие, кто повторил такое путешествие, а один даже трижды. В таблице представлены даты их путешествий и названия кораблем. Назовите их имена и страны.	

Шифр

8 - 0 8 1 9 0 1

Задание № 2. «Топографическое»

Условный знак на топографической карте	Название условного знака	Номер объекта на Рисунке (если обозначен)	Расшифровка текстовых подписей условных знаков
			
			
			
	церковь	2 1	
			
	река	4 4,5	глубина - 4,5 ширина - 1,88
	шоссе	3 1	
			
	мост	5 1	

Шифр

8 - 0 8 1 9 0 1

↑ ↑ ↑	дерево 05	л
-------------	-----------	---

Задание № 3. «Стихийные бедствия»

№	Вопрос	Ответ
1.	Название страны 1	Япония
	Название страны 2	Филиппины
2.	Названия морей омывающих 1 страну	Японское море, Восточно-Китайское море
	Названия морей омывающих 2 страну	Южно-Китайское море, Филиппинское море
3.	Стихийные бедствия	Землетрясения, цунами
4.	Причины стихийных бедствий	перепад температур в недрах Земли → поводные землетрясения

Шифр

8	-	0	4	1	9	0	1												
---	---	---	---	---	---	---	---	--	--	--	--	--	--	--	--	--	--	--	--

Задание № 4. «Краеведческое»

Вопрос	Ответ
1. Запишите имя исследователя, о котором рассказывается в тексте?	Арсеньев В.к. 1
2. Какую горную систему на территории Хабаровского края изучал путешественник?	Сихотэ-Алинь 1
3. Этнограф всегда сопровождал проводник и друг. Назовите его.	Дерсу-Узама 1
4. В экспедициях очень трудно хранить провизию. Путешественник, о котором рассказывается в тексте, придумал способ сохранить в экспедициях продукты. Поэтому, чтобы сохранить муку в тайге от сырости нужно мешок с мукой <hr/> <i>(закончите предложение)</i>	

ВСЕРОССИЙСКАЯ ОЛИМПИАДА ШКОЛЬНИКОВ ПО ГЕОГРАФИИ
(школьный этап)

ТЕОРЕТИЧЕСКИЙ ТУР

8 класс

Уважаемый участник олимпиады!

Вам предстоит выполнить теоретические задания. **Время выполнения заданий теоретического тура 60 минут.**

Выполнение теоретических (письменных) заданий целесообразно организовать следующим образом:

- не спеша, внимательно прочитайте задание и определите, наиболее верный и полный ответ;
- отвечая на теоретические вопросы и выполняя практические задания, обдумайте и сформулируйте конкретный ответ только на поставленный вопрос;
- если Вы отвечаете на задание, связанное с заполнением таблицы или схемы, не старайтесь детализировать информацию, вписывайте только те сведения или данные, которые указаны в вопросе;
- особое внимание обратите на задания, в выполнении которых требуется выразить Ваше мнение с учетом анализа ситуации или поставленной проблемы. Внимательно и вдумчиво определите смысл вопроса и логику ответа (последовательность и точность изложения). Отвечая на вопрос, предлагайте свой вариант решения проблемы, при этом ответ должен быть кратким, но содержать необходимую информацию;
- после выполнения всех предложенных заданий еще раз удостоверьтесь в правильности выбранных Вами ответов и решений.

Предупреждаем Вас, что:

- при оценке тестовых заданий, где необходимо определить один правильный ответ, 0 баллов выставляется за неверный ответ и в случае, если участником отмечены несколько ответов (в том числе правильный), или все ответы;
- при оценке тестовых заданий, где необходимо определить все правильные ответы, 0 баллов выставляется, если участником отмечены неверные ответы, большее количество ответов, чем предусмотрено в задании (в том числе правильные ответы) или все ответы.

Задание теоретического тура считается выполненным, если Вы вовремя сдаете его членам жюри.

Максимальная оценка –39,5 баллов

Всероссийская олимпиада школьников по географии
школьный этап 2022-2023 учебный год
8 класс

Теоретический тур

1 задание «Историческое»

В этом году отмечается полувековой юбилей окончания одной из самых выдающихся экспедиций на планете.

1. Кто и когда организовал уникальную экспедицию?
2. Какое значение имела эта экспедиция в развитии географических знаний о планете?
3. Какие имена носили корабли этой морской экспедиции?
4. Что написано на гербе, который испанский король даровал капитану корабля, вернувшегося на родину? Назовите его имя и корабль.
5. Среди мореплавателей есть такие, кто повторил такое путешествие, а один даже трижды. В таблице представлены даты их путешествий и названия кораблем. Назовите их имена и страны.




Время путешествия	Название корабля	Имя Руководителя экспедиции
1519-1522	Виктория	1
1577—1580	Золотая Лань	2
1768-1771	Индевр	3
1772-1775	Резольюшен, Эдвенчер	3
1776-1780	Резольюшен, Дисковери	3
1803—1806	Нева, Надежда	4
1819 – 1821	Восток, Мирный	5
12 апреля 1961	Восток	6

2 задание «Топографическое»

В последние годы системы спутниковой навигации (GPS) стоят почти в каждом автомобиле и уже мало кто отваживается поехать по незнакомому маршруту без такого устройства. Но, навигатор барахлит, а вам необходимо добраться из пункта А в пункт Б и не заблудиться? Совсем не обязательно признавать поражение и обращаться за помощью. Достаньте из бардачка

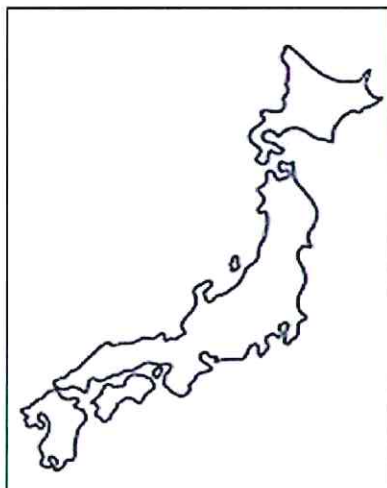
старую добрую карту! Отправляетесь ли в пеший поход в горы или намереваетесь пересечь всю страну на своем автомобиле, умение работать с картой — весьма практичный и полезный навык для каждого. Вопреки общепринятому мнению, в этом нет ничего сложного. Разберитесь в ключевых обозначениях вроде масштаба, широты, долготы и топографических линий, чтобы легко определять по карте любой маршрут. Рассмотрите фотографию и выполните задание.

Задание: соотнесите объект на снимке с условными знаками топографической карты; название условного знака; атрибутивная информация условного знака (расшифровка текстовых подписей условных знаков). Заполните таблицу

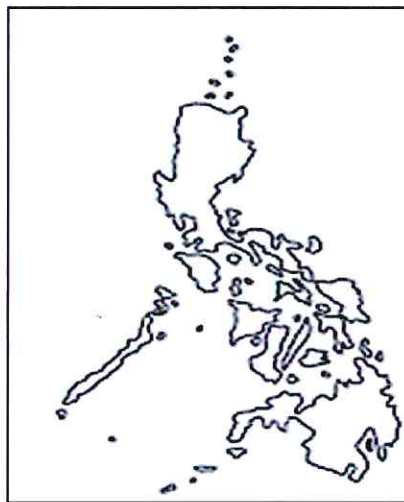


Задание №3. “Стихийные бедствия”

Перед вами контуры двух государств, расположенных в Тихом океане.



1.

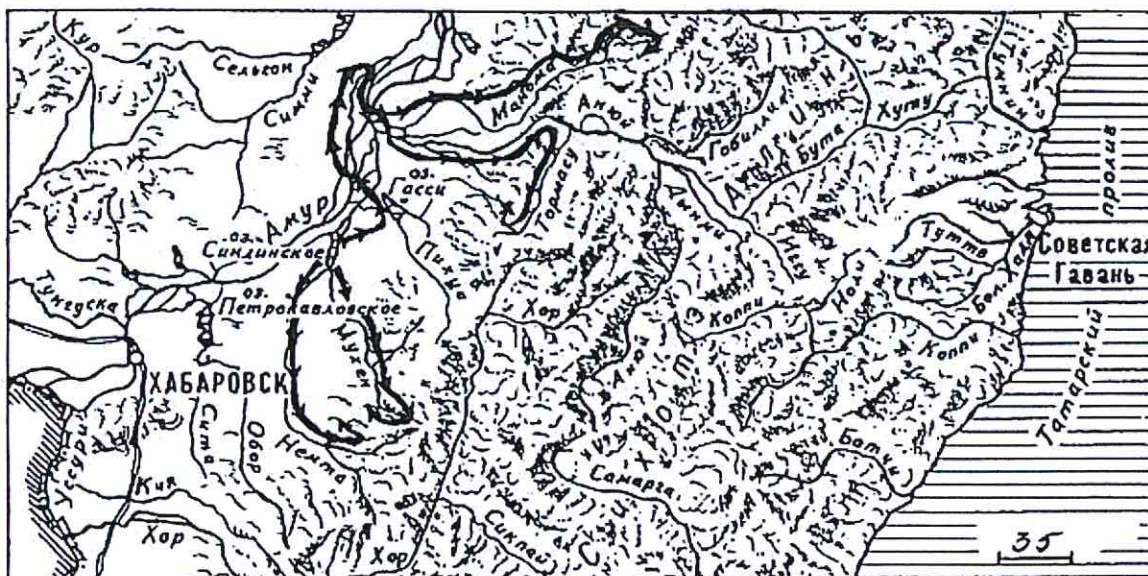


2.

- 1) Определите название этих стран.
- 2) Назовите моря, омывающие побережья этих стран.
- 3) Каким стихийным бедствиям подвержены территории этих стран?
- 4) Каковы причины указанных вами стихийных бедствий?

Задание № 4. «Историческая география»

Указом Президента Российской Федерации от 01.11.2021 № 620 2022 год объявлен годом празднования 150-летия со дня рождения великого путешественника, писателя и исследователя ...



1. *Запишите имя натуралиста, о котором говорится в Указе президента РФ?*
2. *Какую горную систему на территории Хабаровского края изучал путешественник?*
3. *В качестве кого совершил первые свои экспедиции по югу Дальнего Востока?*
4. *Кто был кумиром путешественника, очерки которого были первыми настольными книгами об Уссурийском крае?*
5. *В экспедициях очень трудно хранить провизию.*



Путешественник, о котором рассказывается в тексте, придумал способ сохранить в экспедициях продукты. Поэтому, чтобы сохранить муку в тайге от сырости нужно мешок с мукой необходимо ...

ВСЕРОССИЙСКАЯ ОЛИМПИАДА ШКОЛЬНИКОВ ПО ГЕОГРАФИИ
(школьный этап)

ТЕСТОВЫЙ ТУР
8 класс

Уважаемый участник олимпиады!

Вам предстоит выполнить тестовые задания. **Время выполнения заданий теоретического тура - 30 минут.**

Выполнение тестовых заданий целесообразно организовать следующим образом:

- не спеша, внимательно прочитайте тестовое задание;
- определите, какой из предложенных вариантов ответа наиболее верный и полный;
- напишите букву, соответствующую выбранному Вами ответу;
- продолжайте, таким образом, работу до завершения выполнения тестовых заданий;
- после выполнения всех предложенных заданий еще раз удостоверьтесь в правильности ваших ответов;
- если потребуется корректировка выбранного Вами варианта ответа, то неправильный вариант ответа зачеркните крестиком, и рядом напишите новый.

Предупреждаем Вас, что:

- при оценке тестовых заданий, где необходимо определить один правильный ответ, 0 баллов выставляется за неверный ответ и в случае, если участником отмечены несколько ответов (в том числе правильный), или все ответы;
 - при оценке тестовых заданий, где необходимо определить все правильные ответы, 0 баллов выставляется, если участником отмечены неверные ответы, большее количество ответов, чем предусмотрено в задании (в том числе правильные ответы) или все ответы.
- Задание тестового тура считается выполненным, если Вы вовремя сдаете его членам жюри.

Максимальная оценка – 20,5 баллов

7. Заливом не является:

- А) эстуарий **Б**) дельта В) лиман Г) фьорд Д) бухта

8. Остров с наибольшей численностью населения:

- А) Лусон **Б**) Мадагаскар В) Новая Гвинея Г) Хонсю Д) Ява

9. Термин, не имеющий отношение к Южной Америке:

- А**) вади Б) кампос В) поророка Г) пуна Д) сельва

10. Установите соответствия: «пустыня – страна, на территории которой она частично или полностью расположена».

- | | |
|----------------------|-----------------------------|
| 1) Австралия | А) Атакама |
| 2) Пакистан | Б) Большая пустыня Виктория |
| 3) Саудовская Аравия | В) Каракумы |
| 4) Туркмения | Г) Руб-эль-Хали |
| 5) Чили | Д) Тар |

11. Установите соответствия: «река – её крупнейший по длине приток».

- 1) Амур 2) Енисей 3) Конго 4) Муррей 5) Обь
А) Дарлинг Б) Иртыш В) Нижняя Тунгуска Г) Убанги Д) Уссури

12. Установите соответствие названия термина и его определения:

1. Заповедник
 2. Природная среда
 3. Искусственная (техногенная среда)
 4. Окружающая среда
- 3 а) совокупность элементов окружающей среды, созданных человеком из природных веществ и не имеющих аналогов в дикой природе (здания, сооружения и др.);
- 4 б) среда обитания и деятельности человека, окружающий человека природный и созданный им материальный мир;
- 4 в) природная составляющая часть среды обитания и производственной деятельности человечества (атмосферный воздух, поверхностные и подземные воды, почвы, недра);
- 1 г) природная территория, которая полностью исключается из хозяйственного использования для охраны и изучения природы в целом.

13. Подберите соответствующее определение понятиям:

1. «Река», 2. «Речная система», 3. «Бассейн реки». 4. «Устье»
- 3 а) Территория, с которой поверхностные и подземные воды стекают в главную реку.
- 4 б) Водный поток, который течёт в выработанном им русле.
- 2 в) Главная река с притоками.
- 4 г) Место, где река впадает в другую реку, озеро или море.

1-4
2-В
5-Б
3-Г
4-А

1-Б
2-В
3-А
4-Г

14. Хабаровский край граничит с:

А) Монголией Б) США **В) Китаем** Г) КНДР Д) Японией

15. Коралловое происхождение имеют острова:

- А) Мальдивские**
- Б) Кергелен
- В) Гавайские
- Г) Азорские
- Д) Маршалловы**

Шифр

8	-	0	8	6	6	2	5											
---	---	---	---	---	---	---	---	--	--	--	--	--	--	--	--	--	--	--

Всероссийская олимпиада школьников по географии
школьный этап 2022-2023 учебный год
8 класс

ЛИСТ ОТВЕТОВ

Участник олимпиады	
Фамилия	Власова
Имя	Екатерина
Отчество	Константиновна

Баллы

№ задания	1	2	3	4	Тесты
Количество баллов	4,5	2	4	3	18
Подпись члена жюри					
Сумма баллов и подпись председателя	31,5				

Шифр

8	-	0	8	6	6	2	5											
---	---	---	---	---	---	---	---	--	--	--	--	--	--	--	--	--	--	--

**Всероссийская олимпиада школьников по географии
школьный этап 2022-2023 учебный год**

8 класс

Бланк ответов учащегося для заданий тестового тура

№ вопроса	Правильный ответ (элементы ответа)
1.	B 1
2.	Б 1
3.	Г 1
4.	B 0
5.	Г 1
6.	1B 2Г 3Г 1
7.	Б 1
8.	Б 0
9.	A 1
10.	1Б 2Д 3Г 4В 5А 2,5
11.	1Д 2В 3Г 4А 5Б 2,5
12.	1Г 2Б 3А 4Б 1
13.	1Б 2В 3А 4Г 1
14.	В 1
15.	A;A 1

Шифр

8	-	0	9	6	6	7	5											
---	---	---	---	---	---	---	---	--	--	--	--	--	--	--	--	--	--	--

Теоретический тур






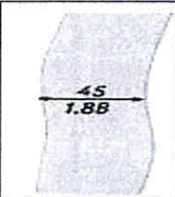

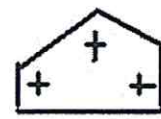

Задание № 1. «Историческое»

№	Вопрос	Ответ
1.	Кто и когда организовал уникальную экспедицию?	Вернан Магеллан в 1519г.
2.	Какое значение имела эта экспедиция в развитии географических знаний о планете?	Эта экспедиция доказала то, что Земля представляет из себя шар, или что Земля круглая.
3.	Какие имена носили корабли этой морской экспедиции?	Виктория, Сантьяго, Сан-Антонио, Приливное, Канонерка.
4.	Что написано на гербе, который испанский король даровал капитану корабля, вернувшегося на родину? Назовите его имя и корабль.	
5.	Среди мореплавателей есть такие, кто повторил такое путешествие, а один даже трижды. В таблице представлены даты их путешествий и названия кораблем. Назовите их имена и страны.	

Шифр


8 - 0 8 6 6 2 5

Задание № 2. «Топографическое»

Условный знак на топографической карте	Название условного знака	Номер объекта на Рисунке (если обозначен)	Расшифровка текстовых подписей условных знаков
			
			
			
			
			
	река	4 2	
			
		2	
	меш	5 2	

Шифр

8	-	0	8	6	6	2	5											
---	---	---	---	---	---	---	---	--	--	--	--	--	--	--	--	--	--	--

	дерево	1	
---	--------	---	--

Задание № 3. «Стихийные бедствия»

№	Вопрос	Ответ
1.	Название страны 1	Япония
	Название страны 2	Филиппины 1
2.	Названия морей омывающих 1 страну	Японское море, Охотское море, Восточно-китайское море, Филиппинское море 1,5
	Названия морей омывающих 2 страну	Филиппинское море, Южно-китайское море
3.	Стихийные бедствия	Цунами, землетрясения 1
4.	Причины стихийных бедствий	Финансирование мероприятий 0,5

Шифр

8	-	0	4	6	6	2	5												
---	---	---	---	---	---	---	---	--	--	--	--	--	--	--	--	--	--	--	--

Задание № 4. «Краеведческое»

Вопрос	Ответ
1. Запишите имя исследователя, о котором рассказывается в тексте?	Ирсеичев В.К. ✓
2. Какую горную систему на территории Хабаровского края изучал путешественник?	Виката-Альпы ✓
3. Этнограф всегда сопровождал проводник и друг. Назовите его.	Василю Удаль ✓
4. В экспедициях очень трудно хранить провизию. Путешественник, о котором рассказывается в тексте, придумал способ сохранить в экспедициях продукты. Поэтому, чтобы сохранить муку в тайге от сырости нужно мешок с мукой <hr/> (закончите предложение)	

ВСЕРОССИЙСКАЯ ОЛИМПИАДА ШКОЛЬНИКОВ ПО ГЕОГРАФИИ
(школьный этап)

ТЕОРЕТИЧЕСКИЙ ТУР

8 класс

Уважаемый участник олимпиады!

Вам предстоит выполнить теоретические задания. **Время выполнения заданий теоретического тура 60 минут.**

Выполнение теоретических (письменных) заданий целесообразно организовать следующим образом:

- не спеша, внимательно прочитайте задание и определите, наиболее верный и полный ответ;
- отвечая на теоретические вопросы и выполняя практические задания, обдумайте и сформулируйте конкретный ответ только на поставленный вопрос;
- если Вы отвечаете на задание, связанное с заполнением таблицы или схемы, не старайтесь детализировать информацию, вписывайте только те сведения или данные, которые указаны в вопросе;
- особое внимание обратите на задания, в выполнении которых требуется выразить Ваше мнение с учетом анализа ситуации или поставленной проблемы. Внимательно и вдумчиво определите смысл вопроса и логику ответа (последовательность и точность изложения). Отвечая на вопрос, предлагайте свой вариант решения проблемы, при этом ответ должен быть кратким, но содержать необходимую информацию;
- после выполнения всех предложенных заданий еще раз удостоверьтесь в правильности выбранных Вами ответов и решений.

Предупреждаем Вас, что:

- при оценке тестовых заданий, где необходимо определить один правильный ответ, 0 баллов выставляется за неверный ответ и в случае, если участником отмечены несколько ответов (в том числе правильный), или все ответы;
- при оценке тестовых заданий, где необходимо определить все правильные ответы, 0 баллов выставляется, если участником отмечены неверные ответы, большее количество ответов, чем предусмотрено в задании (в том числе правильные ответы) или все ответы.

Задание теоретического тура считается выполненным, если Вы вовремя сдаете его членам жюри.

Максимальная оценка –39,5 баллов

Всероссийская олимпиада школьников по географии
школьный этап 2022-2023 учебный год
8 класс

Теоретический тур

1 задание «Историческое»

В этом году отмечается полувековой юбилей окончания одной из самых выдающихся экспедиций на планете.

1. Кто и когда организовал уникальную экспедицию?
2. Какое значение имела эта экспедиция в развитии географических знаний о планете?
3. Какие имена носили корабли этой морской экспедиции?
4. Что написано на гербе, который испанский король даровал капитану корабля, вернувшегося на родину? Назовите его имя и корабль.
5. Среди мореплавателей есть такие, кто повторил такое путешествие, а один даже трижды. В таблице представлены даты их путешествий и названия кораблем. Назовите их имена и страны.




Время путешествия	Название корабля	Имя Руководителя экспедиции
1519-1522	Виктория	1
1577—1580	Золотая Лань	2
1768-1771	Индевр	3
1772-1775	Резольюшен, Эдвенчер	3
1776-1780	Резольюшен, Дисковери	3
1803—1806	Нева, Надежда	4
1819 – 1821	Восток, Мирный	5
12 апреля 1961	Восток	6

2 задание «Топографическое»

В последние годы системы спутниковой навигации (GPS) стоят почти в каждом автомобиле и уже мало кто отваживается поехать по незнакомому маршруту без такого устройства. Но, навигатор барахлит, а вам необходимо добраться из пункта А в пункт Б и не заблудиться? Совсем не обязательно признавать поражение и обращаться за помощью. Достаньте из бардачка

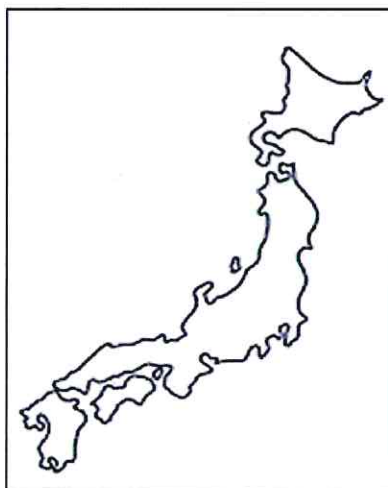
старую добрую карту! Отправляетесь ли в пеший поход в горы или намереваетесь пересечь всю страну на своем автомобиле, умение работать с картой — весьма практичный и полезный навык для каждого. Вопреки общепринятому мнению, в этом нет ничего сложного. Разберитесь в ключевых обозначениях вроде масштаба, широты, долготы и топографических линий, чтобы легко определять по карте любой маршрут. Рассмотрите фотографию и выполните задание.

Задание: соотнесите объект на снимке с условными знаками топографической карты; название условного знака; атрибутивная информация условного знака (расшифровка текстовых подписей условных знаков). Заполните таблицу

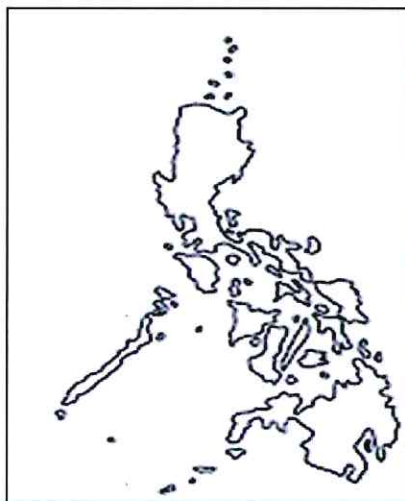


Задание №3. “Стихийные бедствия”

Перед вами контуры двух государств, расположенных в Тихом океане.



1.



2.

- 1) Определите название этих стран.
- 2) Назовите моря, омывающие побережья этих стран.
- 3) Каким стихийным бедствиям подвержены территории этих стран?
- 4) Каковы причины указанных вами стихийных бедствий?

Задание № 4. «Историческая география»

Указом Президента Российской Федерации от 01.11.2021 № 620 2022 год объявлен годом празднования 150-летия со дня рождения великого путешественника, писателя и исследователя ...



1. *Запишите имя натуралиста, о котором говорится в Указе президента РФ?*
2. *Какую горную систему на территории Хабаровского края изучал путешественник?*
3. *В качестве кого совершил первые свои экспедиции по югу Дальнего Востока?*
4. *Кто был кумиром путешественника, очерки которого были первыми настольными книгами об Уссурийском крае?*
5. *В экспедициях очень трудно хранить провизию.*



Путешественник, о котором рассказывается в тексте, придумал способ сохранить в экспедициях продукты. Поэтому, чтобы сохранить муку в тайге от сырости нужно мешок с мукой необходимо ...

ВСЕРОССИЙСКАЯ ОЛИМПИАДА ШКОЛЬНИКОВ ПО ГЕОГРАФИИ
(школьный этап)

ТЕСТОВЫЙ ТУР
8 класс

Уважаемый участник олимпиады!

Вам предстоит выполнить тестовые задания. **Время выполнения заданий теоретического тура - 30 минут.**

Выполнение тестовых заданий целесообразно организовать следующим образом:

- не спеша, внимательно прочитайте тестовое задание;
- определите, какой из предложенных вариантов ответа наиболее верный и полный;
- напишите букву, соответствующую выбранному Вами ответу;
- продолжайте, таким образом, работу до завершения выполнения тестовых заданий;
- после выполнения всех предложенных заданий еще раз удостоверьтесь в правильности ваших ответов;
- если потребуется корректировка выбранного Вами варианта ответа, то неправильный вариант ответа зачеркните крестиком, и рядом напишите новый.

Предупреждаем Вас, что:

- при оценке тестовых заданий, где необходимо определить один правильный ответ, 0 баллов выставляется за неверный ответ и в случае, если участником отмечены несколько ответов (в том числе правильный), или все ответы;
 - при оценке тестовых заданий, где необходимо определить все правильные ответы, 0 баллов выставляется, если участником отмечены неверные ответы, большее количество ответов, чем предусмотрено в задании (в том числе правильные ответы) или все ответы.
- Задание тестового тура считается выполненным, если Вы вовремя сдаете его членам жюри.

Максимальная оценка – 20,5 баллов

7. Заливом не является:

А) эстуарий Б) дельта В) лиман Г) фьорд Д) бухта

8. Остров с наибольшей численностью населения:

А) Лусон Б) Мадагаскар В) Новая Гвинея Г) Хонсю Д) Ява

9. Термин, не имеющий отношение к Южной Америке:

А) вади Б) кампос В) поророка Г) пуна Д) сельва

10. Установите соответствия: «пустыня – страна, на территории которой она частично или полностью расположена».

1) Австралия	А) Атакама
2) Пакистан	Б) Большая пустыня Виктория
3) Саудовская Аравия	В) Каракумы
4) Туркмения	Г) Руб-эль-Хали
5) Чили	Д) Тар

11. Установите соответствия: «река – её крупнейший по длине приток».

1) Амур 2) Енисей 3) Конго 4) Муррей 5) Обь
А) Дарлинг Б) Иртыш В) Нижняя Тунгуска Г) Убанги Д) Уссури

12. Установите соответствие названия термина и его определения:

1. Заповедник
2. Природная среда
3. Искусственная (техногенная среда)
4. Окружающая среда
 - а) совокупность элементов окружающей среды, созданных человеком из природных веществ и не имеющих аналогов в дикой природе (здания, сооружения и др.);
 - б) среда обитания и деятельности человека, окружающий человека природный и созданный им материальный мир;
 - в) природная составляющая часть среды обитания и производственной деятельности человечества (атмосферный воздух, поверхностные и подземные воды, почвы, недра);
 - г) природная территория, которая полностью исключается из хозяйственного использования для охраны и изучения природы в целом.

13. Подберите соответствующее определение понятиям:

1. «Река», 2. «Речная система», 3. «Бассейн реки». 4.»Устье»
 - а) Территория, с которой поверхностные и подземные воды стекают в главную реку.
 - б) Водный поток, который течёт в выработанном им русле.
 - в) Главная река с притоками.
 - г) Место, где река впадает в другую реку, озеро или море.

14. Хабаровский край граничит с:

А) Монголией Б) США В) Китаем Г) КНДР Д) Японией

15. Коралловое происхождение имеют острова:

А) Мальдивские

Б) Кергелен

В) Гавайские

Г) Азорские

Д) Маршалловы